

5下 社會重點整理／目次

第一單元 清末現代化的建設

第1課 清末現代化的開端	2
第2課 外力衝擊與現代化建設	5

第二單元 日本統治下的臺灣

第1課 英勇的抗日事蹟	8
第2課 日本的治臺措施	11
第3課 殖民統治下的臺灣社會	15

第三單元 中華民國時期

第1課 戰後的政治	19
第2課 戰後的經濟	23
第3課 戰後的藝術與文學	26

第四單元 我們的人民與政府

第1課 人民的義務與權利	29
第2課 政府組織	32

第五單元 聚落與人口

第1課 聚落類型與生活差異	35
第2課 聚落的演變	39
第3課 臺灣人口的變化	43

第六單元 生活大不同

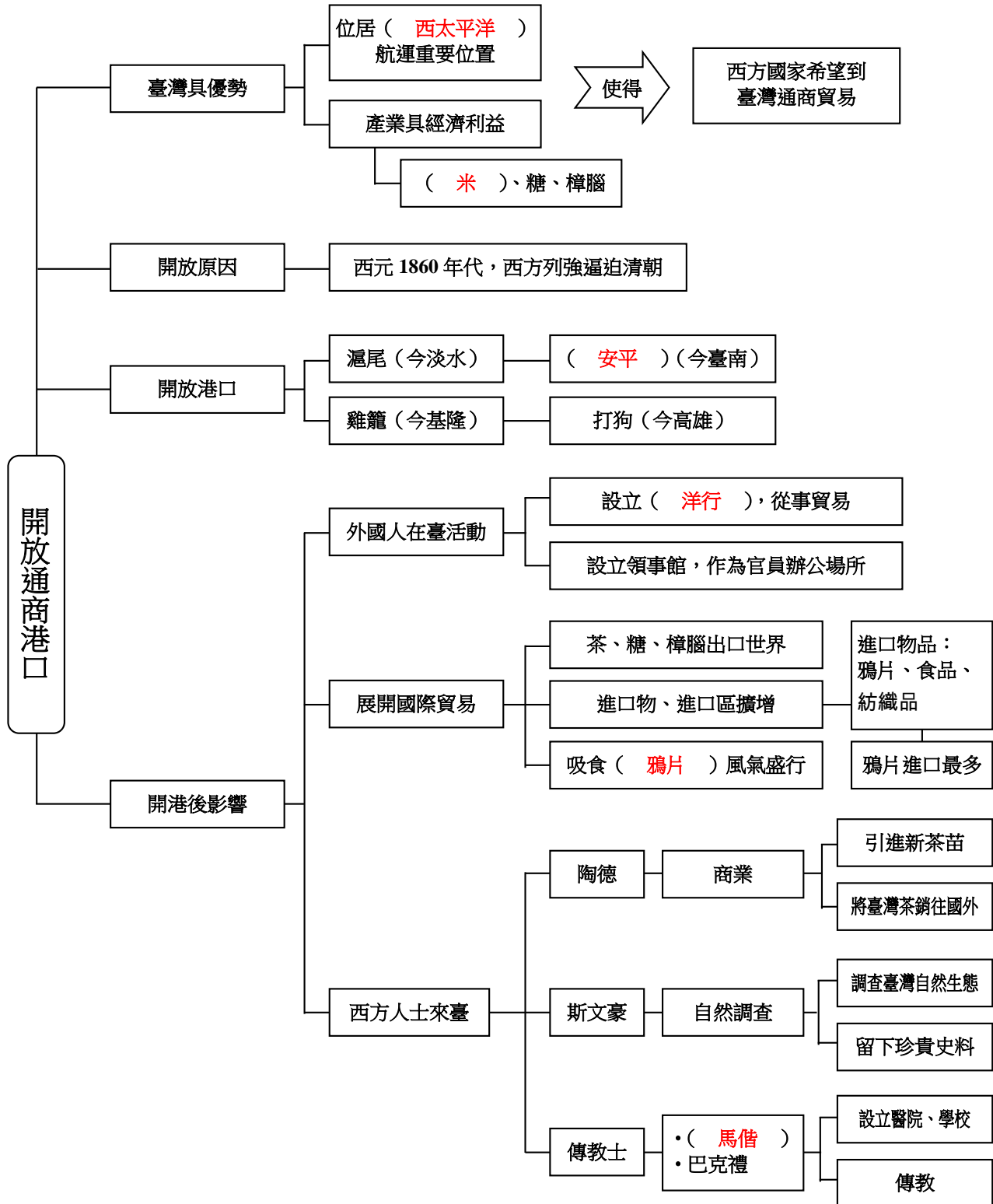
第1課 北中南東看臺灣	46
第2課 寶島行透透	53

※本冊名詞解釋參考來源：教育部國語辭典簡編本

第一單元 清末現代化的建設



第 1 課 清末現代化的開端



一、臺灣開放通商港口

1. 臺灣具優勢：

- (1) 臺灣位居西太平洋航運重要位置
- (2) 產業具有經濟利益
 - A.米。
 - B.糖。
 - C.樟腦。



西方國家希望到
臺灣通商貿易

2. 原因：西方列強逼迫

西元1860年代，西方列強迫使清朝開放通商港口

- 1.滬尾（今淡水）。
- 2.安平（今臺南）。
- 3.雞籠（今基隆）。
- 4.打狗（今高雄）。

3. 開港後影響：

事 項	內 容		
外國人在 臺活動	1. 在四個港口設立洋行，從事貿易。 2. 設立領事館，作為官員辦公場所。		
展開國際 貿易	1. 臺灣生的茶、糖、樟腦在開港通商後，大量出口到世界各地。 2. 臺灣進口物品逐年增加，進口區從中國大陸擴展到其他國家。 3. 臺灣主要進口物品包括鴉片、食品、紡織品等。 4. 進口物品以鴉片數量最多。 5. 當時吸食鴉片風氣盛行，傷害人民身心健康、影響人民生計。		
西方人士 來臺	人 物	從 事	內 容
	陶德	商業	1. 發現臺灣的北部山區適合栽植茶樹，引進新茶苗。 2. 將臺灣茶銷往美國等地，打開國際市場。
	斯文豪	自然調查	1. 多次調查臺灣的自然生態。 2. 發表研究成果，留下珍貴史料。
	傳教士： 北部馬偕 南部巴克禮	1. 致力傳教 2. 設立學校 3. 醫院	1. 致力於傳教工作。 2. 設立學校，帶來新的知識和觀念，例如： (1)理學堂大書院。 (2)淡水女學堂。 3.馬偕設立西式醫院：滬尾偕醫館。



一、選擇題

- (3) 1. 臺灣位於哪一個海洋航運的重要位置？ (1)印度洋 (2)大西洋 (3)太平洋 (4)以上皆非。
- (4) 2. 下列哪一項不是西方國家希望到臺灣重要港口通商的因素？ (1)臺灣位居交通的樞紐要道 (2)盛產米、糖 (3)生產樟腦 (4)具有觀光資源。
- (1) 3. 清朝末年時，英國和法國迫使清朝開放哪四個通商港口？ (1)安平、滬尾、打狗、雞籠 (2)笨港、西港、鹽水港、東石港 (3)梧棲港、新港、烏石港、南崁港 (4)大安港、王公港、萬丹港、楓港。
- (2) 4. 開港通商後，為了讓外國官員有辦公場所，於是設立了下列何者？ (1)教堂 (2)領事館 (3)洋行 (4)商業銀行。
- (4) 5. 臺灣開始對外通商後，除了糖和樟腦之外，還有哪項物品也大量出口到世界各地？ (1)鹿皮 (2)黃金 (3)樟木 (4)茶葉。
- (1) 6. 臺灣開港通商後，進口物品有哪些？ (1)鴉片、紡織品 (2)煤、鐵、銅 (3)糖、茶葉、樟腦 (4)以上皆是。
- (2) 7. 哪一位外國人除了引進新茶苗之外，也將臺灣茶葉銷往美國等地，打開國際市場？ (1)斯文豪 (2)陶德 (3)馬偕 (4)馬雅各。
- (1) 8. 外國人士斯文豪來臺後，主要有什麼貢獻？ (1)進行自然調查 (2)從事貿易 (3)建蓋醫院 (4)擔任教師。
- (4) 9. 傳教士來臺後，何者是他們的影響？ (1)建立教堂傳教 (2)設立醫院和學校 (3)引進西方的醫療和教育方式 (4)以上皆是。
- (2) 10. 承上題，當時著名的傳教士，除了北部的馬偕牧師之外，還有南部哪位？ (1)史安篤牧師 (2)巴克禮牧師 (3)溫中祥神父 (4)華淑芳修女。

二、勾選題

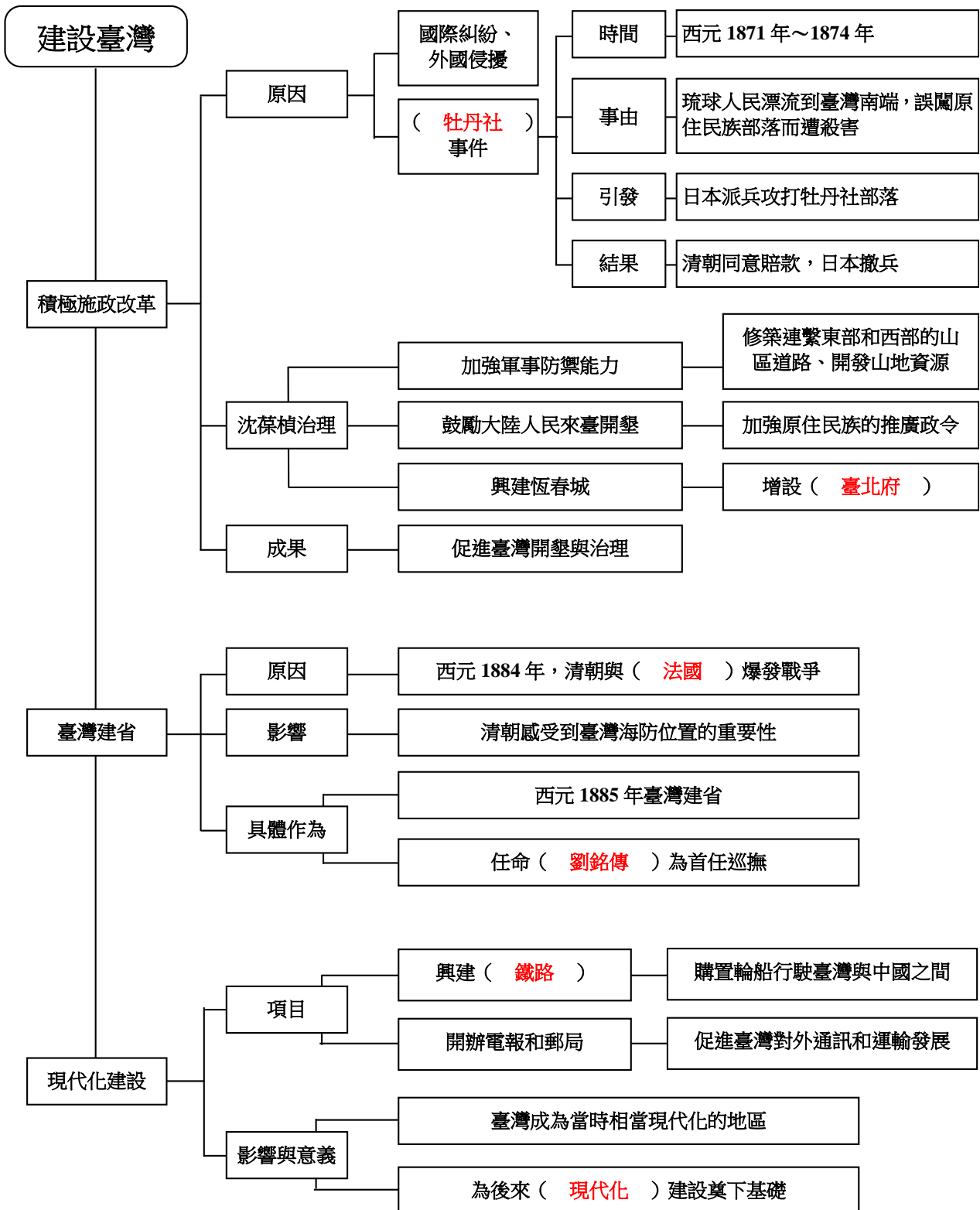
請將下列屬於馬偕牧師的事項打勾（複選）。

- 建蓋新式醫院「偕醫館」
- 設立理學堂大書院
- 英國教會贈送活版印刷機
- 成立淡水女學堂
- 印製閩南語版的聖經
- 發行臺灣府城教會報

第一單元 清末現代化的建設



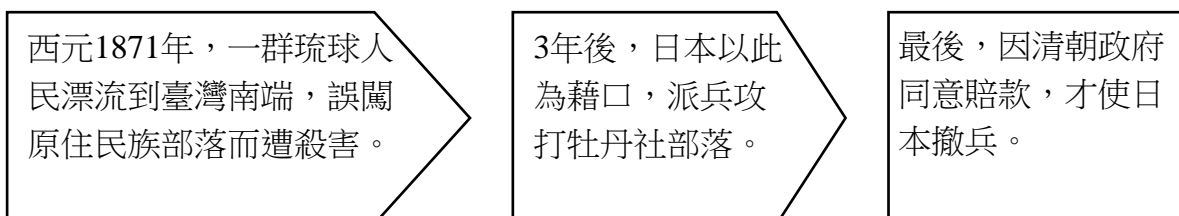
第 2 課 外力衝擊與現代化建設



一、清朝施政改革

1. 進行改革原因：

- (1) 臺灣因外國的謀取利益，發生多次國際糾紛或遭受其他國家的侵擾。
- (2) 牡丹社事件：



2. 改革內容：

牡丹社事件發生時，清朝政府派沈葆楨統籌治理臺灣事宜：

治理臺灣事宜	<ol style="list-style-type: none">1. 興建炮臺，加強臺灣軍事防禦能力。2. 建議清朝政府實施積極的治臺政策，例如：<ol style="list-style-type: none">(1) 廢除渡臺限制，鼓勵大陸人民來臺開墾。(2) 修築連繫東部和西部的山區道路，以便交通往來、開發山地資源，以及向原住民族推廣政令。(3) 興建恆春城、增設臺北府等行政區。
成果	促使臺灣進一步開墾與治理。

二、臺灣建省過程

原因	爆發戰爭	西元 1884 年，清朝與法國爆發戰爭，法軍趁機進攻臺灣的雞籠、滬尾等地。
影響	清朝政府更加感受到臺灣海防位置的重要性。	
具體作為	西元 1885 年，臺灣建省，任命劉銘傳為首任巡撫。	

三、現代化建設

劉銘傳主導	<ol style="list-style-type: none">1. 延續沈葆楨的政策。2. 推行交通、商業等各項建設。
建設項目	<ol style="list-style-type: none">1. 興建鐵路。2. 開辦電報和郵局。3. 購置輪船行駛於臺灣與中國之間。4. 促進臺灣對外通訊和運輸的發展。
後續發展	因政府財政愈來愈困難，剛起步的現代化建設被迫陸續停辦。
影響與意義	<ol style="list-style-type: none">1. 臺灣成為當時相當現代化的地區。2. 為後來的現代化建設奠下了基礎。



一、填序號

下列是牡丹社事件，請依照時間先後順序，將1~3填入括弧中。

- (3) 甲、清朝政府同意賠款，才使日本撤兵。
 (2) 乙、日本派兵登陸臺灣南部，攻打原住民族。
 (1) 丙、一群琉球人民因颱風漂流到臺灣南端，被原住民族殺害。

二、勾選題

1. 請將下列和沈葆楨有關的事物打勾（複選）。

- 廢除渡臺限制 鼓勵大陸人民來臺開墾
清法戰爭爆發，來臺負責防衛工作 興建炮臺
興建恆春城、增設臺北府等行政區 臺灣第一任巡撫

2. 請將下列和劉銘傳有關的事物打勾（複選）。

- 臺灣第一任巡撫 奠定臺灣現代化的基礎
沒有延續沈葆楨的政策 開辦電報和郵局
興建鐵路 清法戰爭期間，負責防衛臺灣

三、配合題

1. 請將下列A~D的選項，填入適當的空格中。

A.現代化 B.交通、商業 C.臺灣海防位置 D.臺灣雞籠、滬尾

- (1) 清朝與法國戰爭後，法軍趁機進攻 D 。
 (2) 承上題，清朝政府感受到 C 的重要性。
 (3) 劉銘傳在臺灣推行 B 等各項建設。
 (4) 臺灣建省後的各項建設，已讓臺灣成為當時 A 的地區。

2. 請將下列代號，填入適當的空格中。

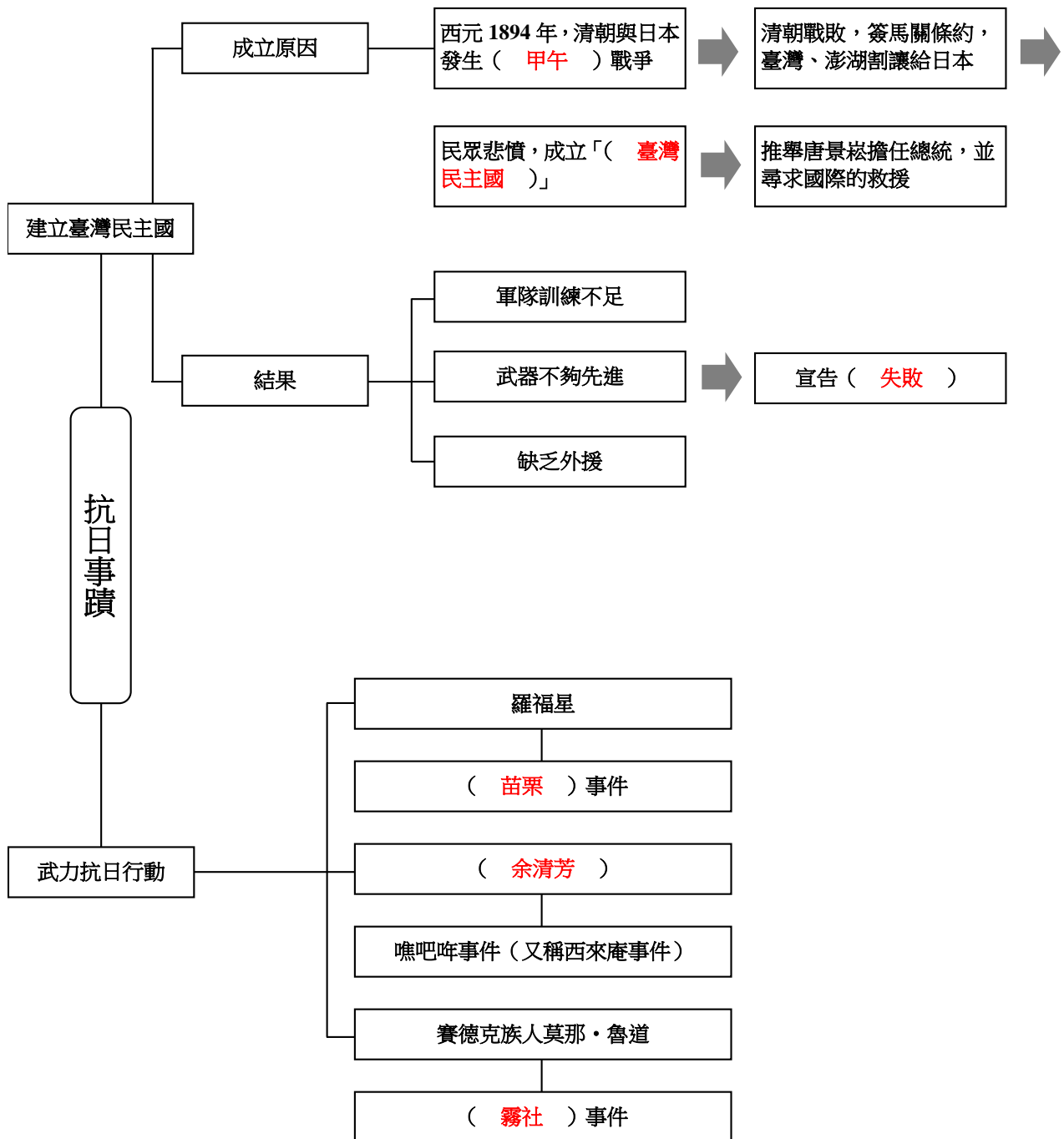
A.石門古戰場旁的壁畫 B.億載金城 C.恆春城 D.海門天險 E.欽差行臺

- B (1) 臺灣第一座現代化西式炮臺。
 A (2) 重現牡丹社事件發生經過。
 C (3) 沈葆楨重視臺灣南部的發展所興建。
 E (4) 臺灣建省後，作為政府官員旅居、集會的場所。
 D (5) 清朝時，臺灣北部的海防堡壘。

第二單元 日本統治下的臺灣



第 1 課 英勇的抗日事蹟



一、建立臺灣民主國

一、清朝戰敗

西元1894年，清朝政府與日本發生甲午戰爭，清朝戰敗。

二、割讓臺灣、澎湖

西元1895年，清朝政府與日本簽訂馬關條約，將臺灣與澎湖割讓給日本。

三、臺灣民主國成立

割讓的消息讓臺灣人民十分悲憤，於是成立「臺灣民主國」，推舉唐景崧擔任總統，並尋求國際的救援，以抵抗日本。

四、宣告失敗

由於臺灣民主國的軍隊訓練不足、武器不夠先進、缺乏外援等因素而宣告失敗。

二、武力抗日行動

主要人物	羅福星	余清芳	莫那·魯道
對應事件	苗栗事件	噍吧哖事件（又稱西來庵事件）	霧社事件



一、填序號

下列是臺灣民主國成立的相關過程，請依照時間先後順序，將1~4填入括弧中。

- (4) 甲、推舉唐景崧擔任總統，並尋求國際的救援。
- (3) 乙、臺灣人民悲憤，成立「臺灣民主國」。
- (2) 丙、將臺灣與澎湖割讓給日本。
- (1) 丁、清朝政府敗戰於甲午戰爭。

二、選擇題

- (3) 1. 甲午戰爭後，中日雙方代表在日本何處舉行和談？ (1)富山 (2)大阪 (3)馬關 (4)沖繩。
- (1) 2. 甲午戰爭後，清朝戰敗，與日本簽訂條約。條約名稱為何？ (1)馬關條約 (2)南京條約 (3)天津條約 (4)中日條約。
- (1) 3. 臺灣民主國的國旗稱為下列何者？又這面國旗的圖像是何種動物？ (1)藍地黃虎旗，虎 (2)藍地黃虎旗，龍 (3)藍地黃龍旗，虎 (4)藍地黃龍旗，龍。
- (4) 4. 下列何者為臺灣民主國最終宣告失敗的原因？ (1)軍隊訓練不足 (2)武器不夠先進 (3)缺乏外援 (4)以上皆是。
- (4) 5. 西元1894年，清朝和日本發生甲午戰爭，清朝戰敗，第二年將臺灣割讓給日本。請問是哪兩位官員代表兩國簽訂此項條約？ (1)李鴻章與唐景崧 (2)劉銘傳與伊藤博文 (3)沈葆楨與劉銘傳 (4)李鴻章與伊藤博文。
- (3) 6. 臺灣割讓後，日軍登陸臺灣有設立一座紀念碑，這座紀念碑的地點為何？ (1)今新北市烏來 (2)今臺北市景美 (3)今新北市鹽寮 (4)今新北市瑞芳。
- (4) 7. 羅福星所領導的抗日事件為何？ (1)嘉義事件 (2)雲林事件 (3)南投事件 (4)苗栗事件。
- (2) 8. 下列哪一族原住民族發動霧社事件？ (1)西拉雅族 (2)賽德克族 (3)賽夏族 (4)泰雅族。
- (1) 9. 賽德克族人莫那·魯道率領的抗日事件為何？ (1)霧社事件 (2)苗栗事件 (3)西來庵事件 (4)北埔事件。
- (3) 10. 余清芳所領導的抗日事件為何？ (1)霧社事件 (2)苗栗事件 (3)西來庵事件 (4)雲林事件。

三、勾選題

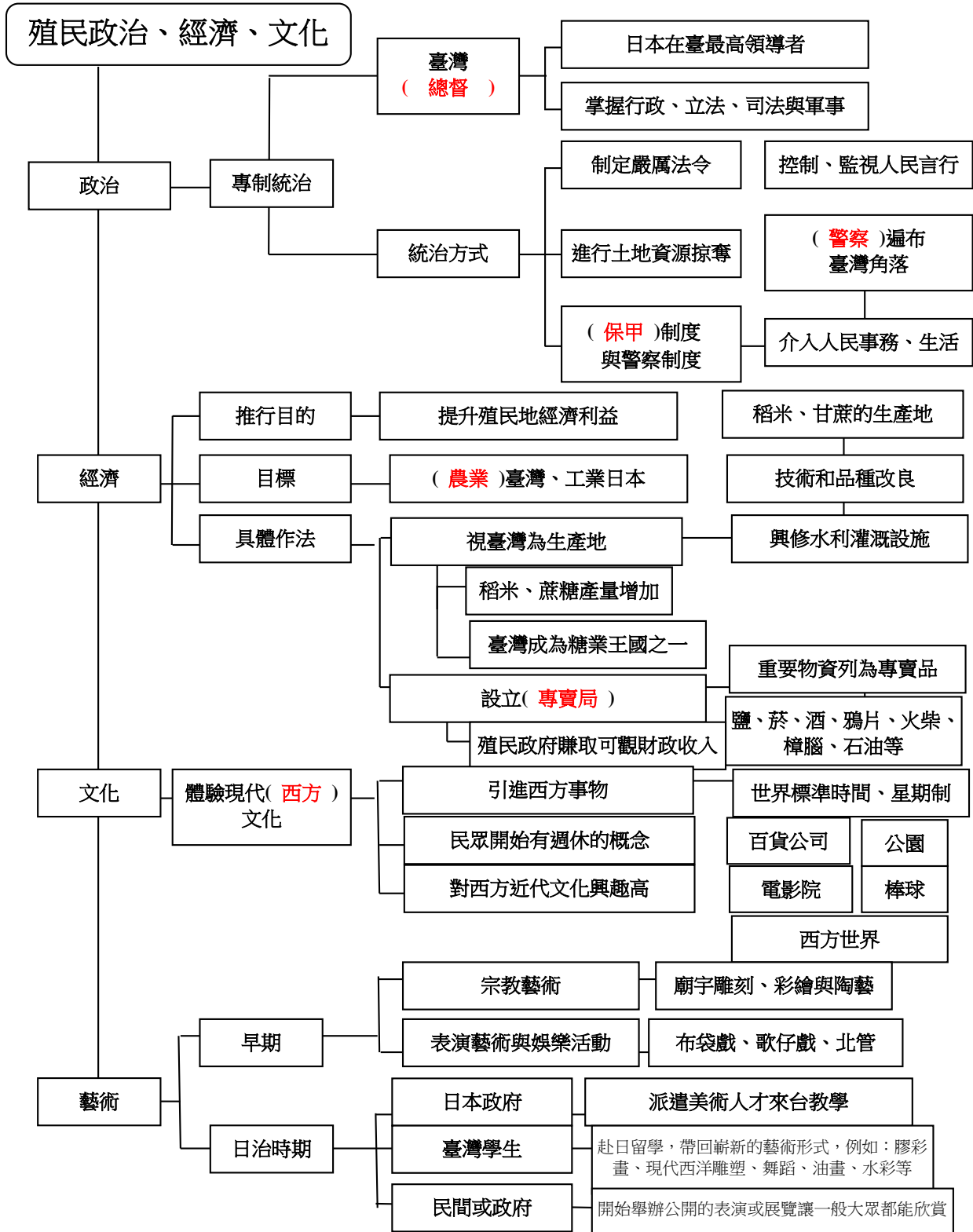
下列哪些項目是原住民族反抗日本政府的原因？請勾選（複選）。

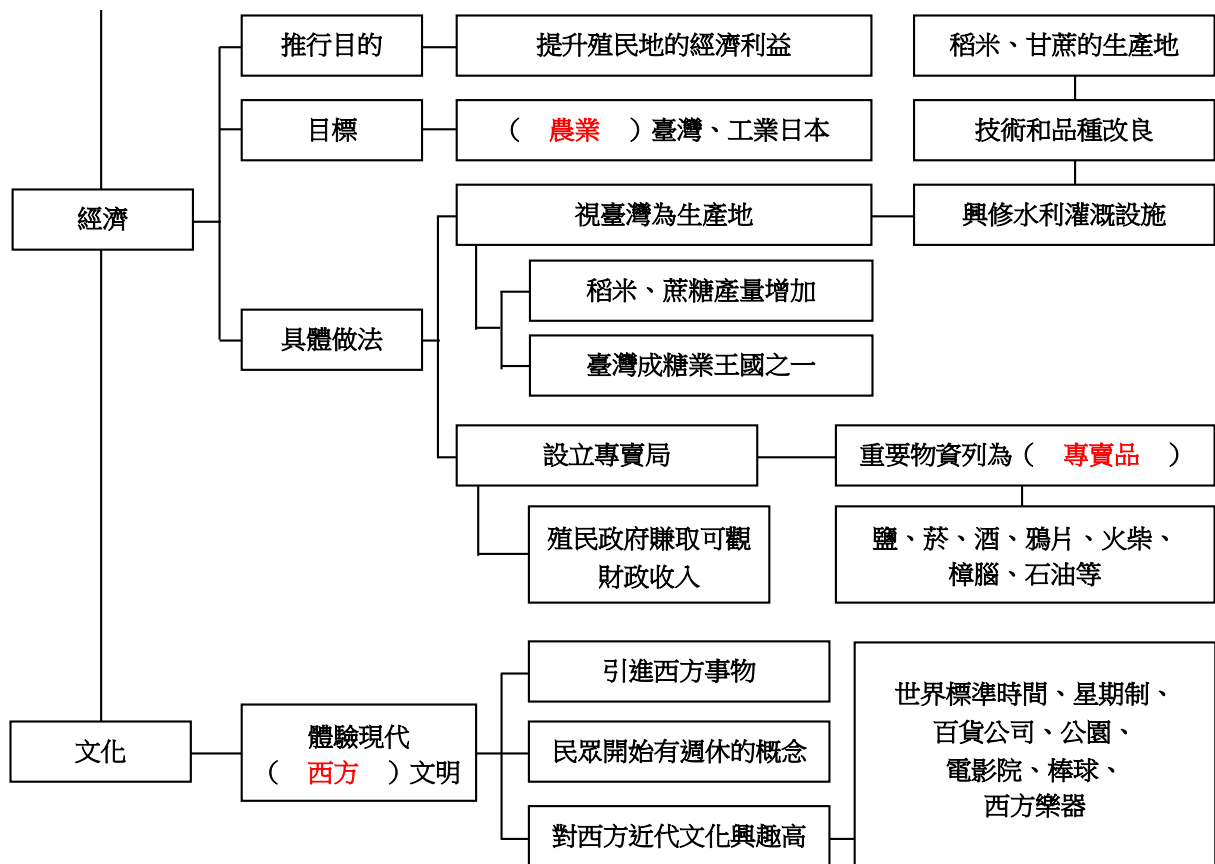
- 不尊重原住民族的傳統信仰
- 限制原住民族狩獵的獵場
- 強行徵召原住民族服勞役
- 隨意開發山林
- 殘暴鎮壓原住民族

第二單元 日本統治下的臺灣



第 2 課 日本的治臺措施





一、專制的殖民統治

1. 日本在臺最高領導者：臺灣總督。
2. 掌握權力：行政、立法、司法與軍事。
3. 統治方式：

為讓人民順從	制定嚴厲的法令以控制民眾。
為掠奪土地資源	大量徵收臺灣人的土地，再廉價賣給日本人。
為整頓治安	運用保甲制度與警察制度： 1. 嚴密控制、監視人民的言行。 2. 當時警察的力量遍布臺灣每個角落。 3. 地方上大小事務、民眾日常生活等，都受到警察的管理與控制。

知識家

保甲制度：十戶編為一甲；十甲為一保。保內人民彼此有連帶的責任，等同鼓勵民眾互相監視、告密。

名詞解釋
(課本P23)

監視：暗地觀察人物的動向或場所的狀況。

二、殖民時代的經濟

推行目的	提升殖民地的經濟利益		
目標	農業臺灣、工業日本。		
具體作法	將臺灣當作生產地	進行	1將臺灣當做稻米與甘蔗的生產地。 2進行技術和品種改良的工作。 3興修水利灌溉設施。
		影響	1使稻米與蔗糖的產量大增。 2臺灣成為當時世界的糖業王國之一。
	設立專賣局	進行	1陸續將較賺錢的重要物資列為專賣品。 2 品項：鹽、菸、酒、鴉片、火柴、樟腦、石油等。
		影響	殖民政府賺取到可觀的財政收入。

三、體驗現代西方文明

1 影響：

- (1)日治時期，引進西方現代文明事物，逐漸改變臺灣傳統社會。
- (2)民眾開始有週休的概念，生活習慣與休閒方式隨之改變。
- (3)對於西方近代文化的興趣更高。

2 引進的西方現代文明事物，例如：

- (1)西方的「世界標準時間」與「星期制」：
 - a.將一天12個時辰改為24小時制。
 - b.訂出學校、政府機關的上課與工作時間。
 - c.要求民眾養成「守時」的習慣。
- (2)百貨公司。(3)公園。(4)電影院。(5)棒球。(6)西方樂器。

四、日治時期的藝術

1 早期藝術發展：

- (1)許多與宗教藝術有關，如廟宇的雕刻、彩繪與陶藝。
- (2)布袋戲、歌仔戲、北管等是當時較大眾化的表演藝術與娛樂活動。

2 日治時期：

- (1)日本政府從日本派遣美術人才來臺教學。
- (2)臺灣學生赴日留學，帶回許多嶄新的藝術形式，例如：膠彩畫、現代西洋雕塑、舞蹈、油畫、水彩等。
- (3)民間或政府開始舉辦公開的表演或展覽，讓一般大眾都能欣賞。



一、是非題

- (○) 1. 日治時期的臺灣總督是臺灣最高的領導者。
- (×) 2. 臺灣進入日治時期後，日本天皇掌握行政、立法等兩項權力。
- (○) 3. 日本政府制定嚴厲的法令，是為了控制臺灣民眾，讓臺灣人民順從。
- (×) 4. 日本政府進行土地資源掠奪的方式，是大量徵收臺灣農民的土地，再廉價賣給臺灣的富豪。
- (○) 5. 所謂的保甲制度，是十戶編為一甲；十甲為一保。保內人民彼此有連帶的責任，等同鼓勵民眾互相監視、告密。
- (×) 6. 為了嚴密控制、監視人民的言行，警察僅運用警察制度進行操控。
- (×) 7. 歐日本人將臺灣當做稻米與甘蔗的生產地，大部分的米、糖都留在臺灣販賣或使用。
- (○) 8. 日本政府在臺灣進行技術和品種改良的工作，興修水利灌溉設施，使臺灣成為當時世界的糖業王國之一。
- (○) 9. 嘉南大圳灌溉整個嘉南平原，設計者是八田與一。
- (×) 10. 日治時期，日本政府仍讓人民自由交易較賺錢的重要物資。
- (○) 11. 日本人藉著專賣制度的實施，賺取可觀的財政收入，使殖民政府財源豐裕。
- (○) 12. 在日治時期所引進的西方現代文明事物中，包括引進西方的「世界標準時間」與「星期制」。
- (○) 13. 臺灣在日本統治時期，將一天12個時辰改為24小時制。
- (×) 14. 日本政府要求臺灣男性剪辮子、女性不可裹小腳，並非受到現代西方文明的影響。
- (○) 15. 因為星期制的引進，民眾開始有週休的概念，生活習慣與休閒方式隨之改變。
- (×) 16. 日治時期，臺灣仍然沒有到電影院觀看電影這項娛樂。
- (×) 17. 日治時期，不僅臺北、臺南、高雄，臺東也建有大樓式的百貨賣店。
- (×) 18. 「水牛群像」是廖繼春最著名的代表作之一。
- (×) 19. 臺灣早期藝術發展，許多都和日治時期的政治方針有關，如廟宇的雕刻、彩繪與陶藝。
- (×) 20. 日治時期有些臺灣學生赴美留學，學習藝術技法，帶回許多嶄新的藝術形式。

二、勾選題

1. 請將下列日治時期警察的主要工作打勾（複選）。

- | | |
|---|--|
| <input type="checkbox"/> 管理服裝儀容 | <input checked="" type="checkbox"/> 管制交通 |
| <input checked="" type="checkbox"/> 惡疫防治 | <input type="checkbox"/> 牛隻的買賣 |
| <input checked="" type="checkbox"/> 監視公共集會 | <input checked="" type="checkbox"/> 逮捕犯人 |
| <input checked="" type="checkbox"/> 救助、救護工作 | |

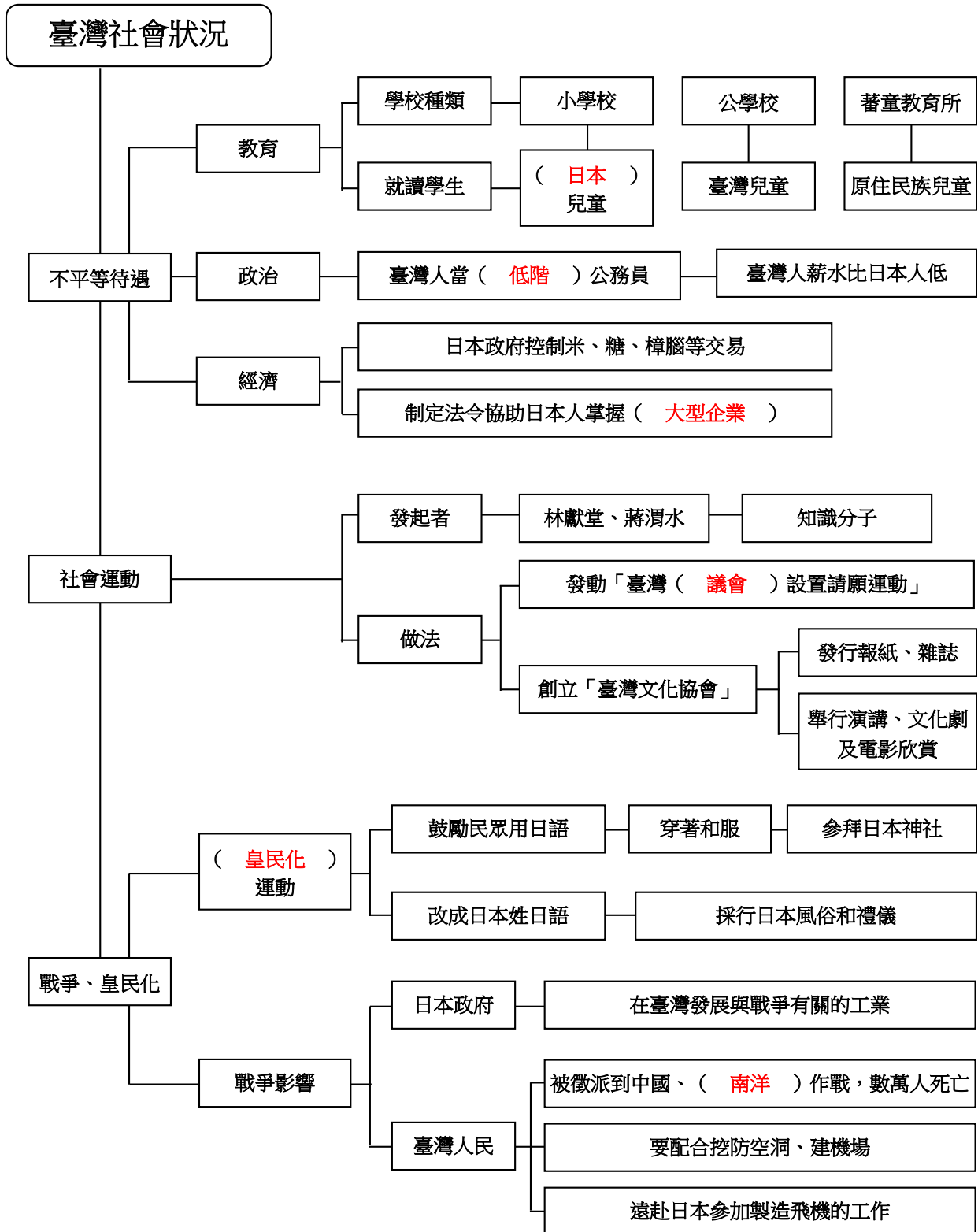
2. 請將下列日本人引進臺灣的西方現代文明事物打勾（複選）。

- | | |
|---|--|
| <input checked="" type="checkbox"/> 公園 | <input checked="" type="checkbox"/> 棒球 |
| <input checked="" type="checkbox"/> 西方樂器 | <input checked="" type="checkbox"/> 百貨公司 |
| <input checked="" type="checkbox"/> 男子留短髮 | <input checked="" type="checkbox"/> 「世界標準時間」與「星期制」 |

第二單元 日本統治下的臺灣



第 3 課 殖民統治下的臺灣社會



一、不平等的待遇

項目	做 法	
教育	為順利執行政府所推行的政策與命令： 1. 建立現代教育制度。 2. 大力推動兒童就學，提高民眾識字率。	
	小學校	日本兒童就讀
	公學校	臺灣兒童就讀
	蕃童教育所	原住民族兒童就讀
政治	1. 臺灣人大都只能當職位較低的公務員。 2. 臺灣人薪水比日本人低。	
經濟	1. 日本政府控制較賺的米、糖、樟腦等交易。 2. 制定法令協助日本人掌握大型企業。	

二、萌芽中的社會運動

性質	非武力的抗日運動。	
興起緣由	日本政府不平等的對待。	
主導	知識分子們。	
代表人物	林獻堂、蔣渭水。	
	活動方式	活動結果
	發動多次「臺灣議會設置請願運動」。	迫使日本政府舉行了臺灣第一次的議員選舉。
	創立「臺灣文化協會」： 1. 活動內容： (1) 批評殖民統治政策。 (2) 宣揚民族主義。 (3) 傳播各種現代知識。 2. 進行方式： (1) 發行報紙、雜誌。 (2) 舉行演講、文化劇及電影欣賞等。	1. 風潮吹到臺灣各個階層。 2. 許多政黨、聯盟團體紛紛成立。 3. 喚起臺灣人民捍衛權益的覺醒與抗爭。



名詞解釋

(課本P32)

請願：人民針對國家政策、公共事務或其自身權益，向民意機關或主管官署提出主張。

三、皇民化運動

時間	西元 1937 年。
推行原因	中日戰爭爆發後，日本為了拉攏臺灣人民齊心投入戰爭。
具體做法	例如： 1. 鼓勵民眾用日語。 2. 改成日本姓。 3. 穿著和服。 4. 採行日本風俗和禮儀。 5. 參拜日本神社。

四、戰爭造成的影響

日本政府	為了準備戰爭所需，在臺灣發展與戰爭有關的工業。
臺灣人民	1. 被徵派到中國、南洋作戰，造成數萬人死亡。 2. 要配合挖防空洞、建機場。 3. 遠赴日本參加製造飛機的工作。



一、填代號

請填入相對應的代號。

A. 小學校 B. 公學校 C. 蕃童教育所

- B 1. 提供給一般臺灣兒童就讀。
 A 2. 提供給在臺灣的日本兒童就讀。
 C 3. 提供給原住民族兒童就讀。

二、勾選題

1. 日本統治臺灣期間，在政治與經濟方面出現哪些情形？請打勾（複選）。
- 職位較低的公務員大都由臺灣人擔任
 - 臺灣人與日本人享有同樣的待遇
 - 臺灣人薪水比日本人低
 - 所有物品日本政府均允許人民自由交易
 - 制定法令協助日本人掌握大型企業
2. 下列哪些是溫和、非武裝抗日的方式？請打勾（複選）。
- 自組民兵抵抗
 - 增添抗日武器
 - 發動請願運動
 - 成立「臺灣文化協會」等團體
 - 發行報紙、雜誌
 - 舉辦演講活動

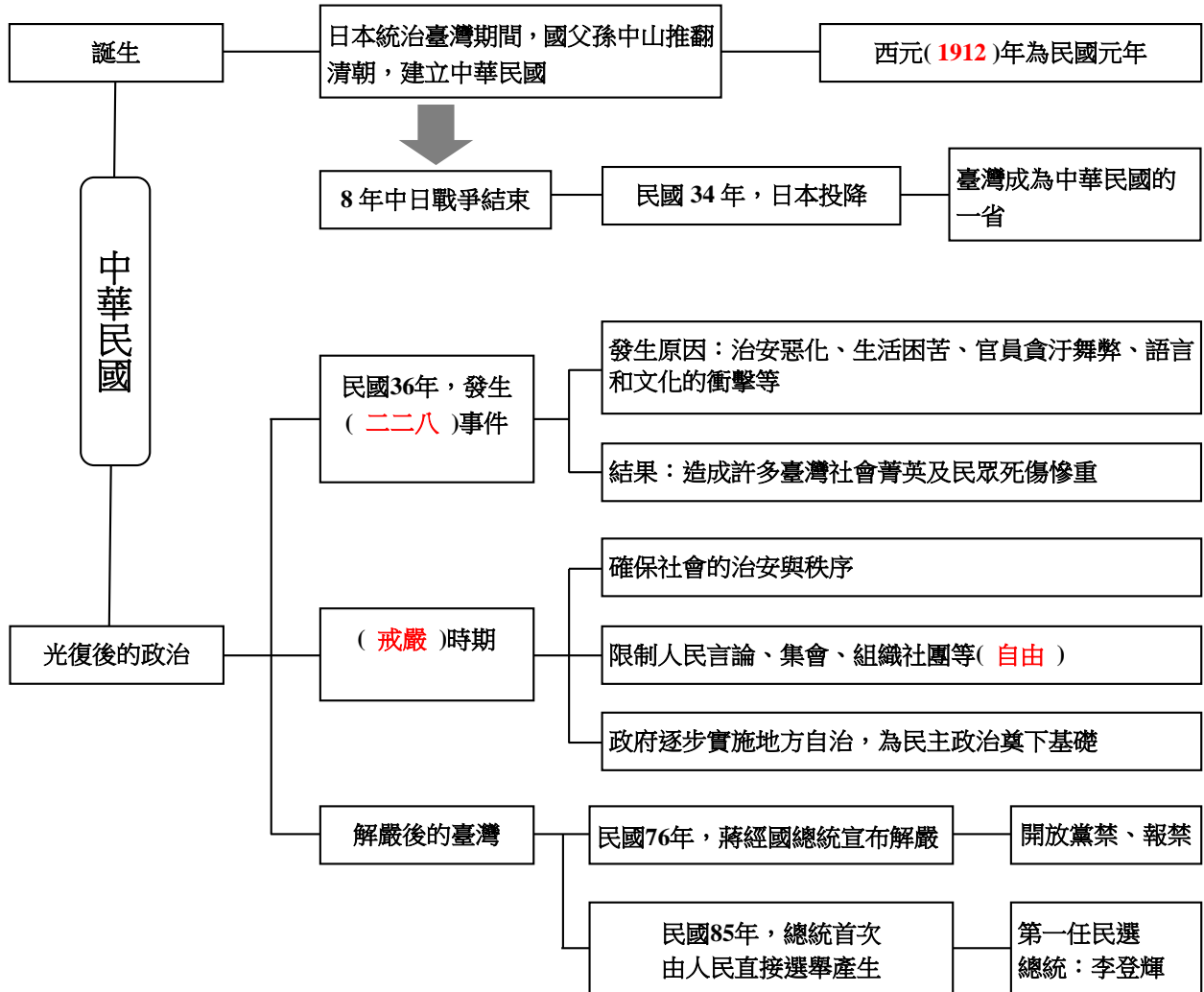
三、簡答題

1. 西元1937年中日戰爭爆發後，總督府積極推動拉攏臺灣人投入戰爭的政策，稱為什麼？
答：皇民化運動
2. 承第一題，請任舉一項所推行的內容。
答：鼓勵民眾用日語
(其他：改日本姓；穿著和服；採行日本風俗和禮儀；參拜日本神社。)

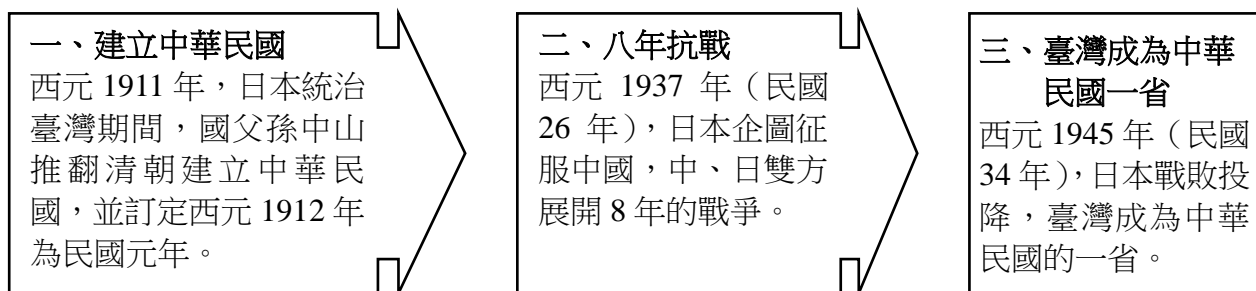
第二單元 中華民國時期



第 1 課 戰後的政治



一、中華民國的誕生



二、二二八事件

導火線	政府許多不當的施政措施，引發民眾不滿： 1. 優先聘用中國大陸的人士，使得本地民眾求職困難。 2. 治安惡化。 3. 生活困苦。 4. 官員貪汙舞弊。 5. 語言和文化的衝擊。
政府當時做法	民國 36 年 2 月 28 日掃射遊行抗議的民眾。
造成的影響	1. 造成許多臺灣社會菁英及民眾死傷慘重。 2. 引發群眾示威抗議。 3. 引發族群衝突事件。
政府彌補	政府彌補社會裂痕方式，例如： 1. 公布真相；2. 道歉；3. 賠償；4. 訂定紀念日。



知識家

二二八事件：民國36年2月27日，專賣局專員與警察查緝私菸時，打傷菸販和擊斃一名路人。在2月28日當天，民眾舉行遊行抗議，卻遭到政府掃蕩，死傷慘重。自此，開始引發一連串的群眾示威抗議與族群衝突事件。

三、解嚴前後的臺灣社會

戒嚴	實施時間	民國 38 年開始。
	原因	1. 民國 38 年，中華民國政府對中國共黨作戰失利，將首都遷至臺北。 2. 當時政府為了確保社會的治安與秩序，宣布戒嚴。
	影響	人民言論、集會與組織社團等自由受到很大的限制。
戒嚴期間	政府	為了讓人民有參與政治的機會，政府逐漸實施地方自治，舉行地方首長、民意代表的選舉，為民主政治奠下基礎。
	民間	不少人要求政府實施政治改革，方式： 1 創辦刊物。 2 參與選舉。
解嚴	解嚴時間	民國 76 年。
	解嚴原因	持續不斷的輿論壓力，政府宣布解嚴。
	解嚴後社會	1 新的政黨、報社、電視臺等紛紛成立。 2 集會遊行活動風起雲湧。 3 政府開放大陸探親，允許除了現役軍人與公職人員外，凡中國大陸有親屬的民眾皆可以申請探親。 4 民國 85 年起，正、副總統改由人民直接選舉產生。

一、是非題

- () 1. 「二二八事件」發生於民國36年。
- () 2. 「二二八事件」在政府展開鎮壓後，便開始引發一連串的群眾示威抗議與族群衝突事件。
- () 3. 「二二八事件」發生後，對後來臺灣的政治發展、文化與族群和諧產生不良的影響。
- () 4. 二二八紀念碑的設立，主要是為了推動族群的和諧。
- () 5. 民國38年，政府將首都遷到臺北後，隨即解除戒嚴。
- () 6. 中華民國政府遷臺後，為了確保社會的治安與秩序，宣布戒嚴。
- () 7. 承上題，但對人民的言論、集會、結社等自由是採取尊重的態度。
- () 8. 臺灣於民國75年宣布解嚴，逐漸將臺灣的政治推向民主化。
- () 9. 臺灣解嚴是政府自我反省的結果，並非受到輿論的壓力。
- () 10. 解嚴後，政府縱使已逐步邁向民主，但仍然不准政黨、報社、電視臺的成立。
- () 11. 臺灣人民是在解嚴後才享有憲法所保障的各種自由。
- () 12. 臺灣正、副總統改由人民直接選舉產生是在民國89年。
- () 13. 現在的報紙內容因為報禁的開放而更加多元。
- () 14. 人民若要向政府表達各種訴求，「集會遊行」是方式之一。
- () 15. 民國76年，李登輝總統宣布解嚴。
- () 16. 民國36年因為「二二八事件」發生，隨即宣布戒嚴，限制人民言論、集會、組織社團等自由。
- () 17. 解嚴後，政府開放民眾可以到大陸探親和旅遊活動。
- () 18. 民國85年，舉行中華民國第10任總統選舉。

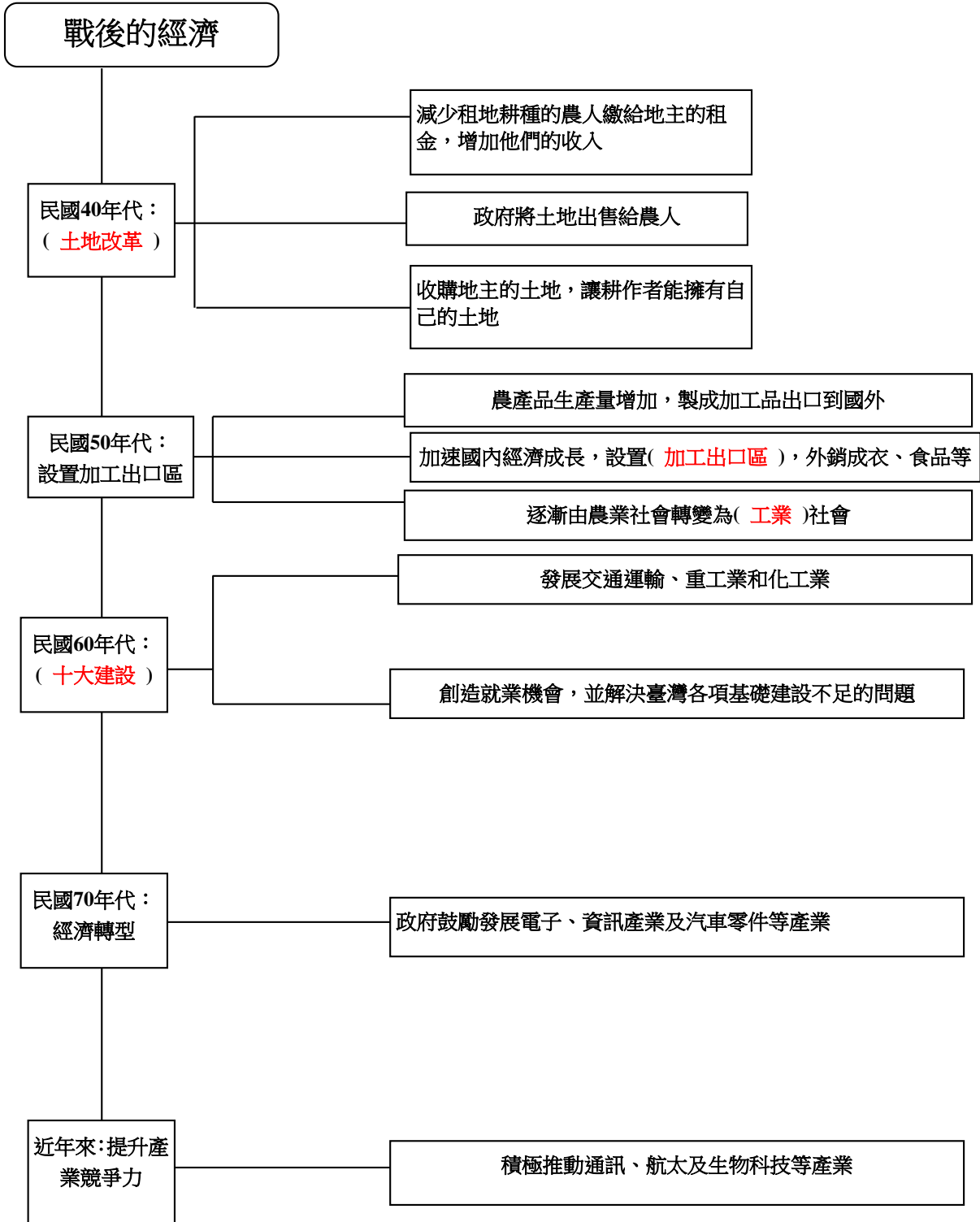
二、勾選題

1. 二二八事件爆發的原因是什麼？請勾選（複選）。
 - 生活困苦
 - 治安惡化
 - 語言和文化的衝擊
 - 政府措施失當
2. 對於當年二二八事件造成人民死傷，近年來政府如何處理？請勾選（複選）。
 - 公布真相
 - 道歉
 - 賠償
 - 訂定紀念日

第三單元 中華民國時期



第 2 課 戰後的經濟



一、民國40年代：土地改革

1.自民國38年起，政府推動一連串土地改革。

(1)減少租地耕種的農人繳給地主的租金，增加他們的收入。

(2)政府將公有土地出售給農人。

(3)收購地主的土地，讓耕作者能擁有自己的土地，提高他們的生產意願，改善生活。

2.土地改革後，農產品的產量增加。

二、民國50年代：加工出口區

1政府為了加速國內經濟成長，設置加工出口區，外銷成衣、食品等產品。

2臺灣逐漸由農業社會轉變為工業社會。

三、民國60年代：十大建設

1發展交通運輸、重工業和化工業。

2創造就業機會，奠定臺灣經濟基礎。

四、民國70年代到現在

1發展電子、資訊及汽車零件等產業。

2政府積極推動通訊、航太及生物科技等產業，提升臺灣的產業競爭力。

一、是非題

- () 1 民國50年代，政府進行土地改革，全面回收農地，改由政府出租土地給農民耕種。
- () 2 民國50年代，因為加工出口區的推動，讓臺灣由農業社會轉變為工業社會。
- () 3 承上題，成衣是當時外銷的主要產品之一。
- () 4 民國60年代推動的十大建設，其內容以教育改革的建設最多。
- () 5 臺灣第一座科學園區在內湖設立。
- () 6 為了推動臺灣經濟轉型，政府採取的方法是鼓勵發展電子、資訊，以及汽車零件等產業。
- () 7 臺灣未來的產業發展，應該朝勞力密集產業目標邁進。
- () 8 近年來，數位內容與生物科技是臺灣經濟產業的核心命脈，也讓我國從高科技產業逐步轉型為知識型產業，提高產業競爭力。

二、選擇題

- () 1 民國40年代，政府陸續推行「土地改革」，其中不包括下列哪一項措施？
(1)減少農人繳給地主的租金 (2)收購地主的土地 (3)積極推動十大建設 (4)將公有土地出售給農人。
- () 2 民國60年代，當時推動「十大建設」，因此創造許多就業機會，其中哪一條鐵路連接東、西部火車運輸路線？ (1)阿里山森林鐵路 (2)南迴鐵路 (3) 高速鐵路 (4) 北迴鐵路。
- () 3 戰後，臺灣經歷了不同階段的經濟發展。以下時間配對何者正確？
(1)民國70年代，設立加工出口區，使臺灣由農業社會轉變為工業社會
(2)民國60年代，發展電子、資訊產業，使臺灣經濟邁向高科技產業
(3)民國50年代，推動十大建設，解決臺灣各項基礎建設不足的問題
(4)民國40年代，陸續推動土地改革，改善農人生活。
- () 4 民國70年代，當時政府發展的產業型態以電子、資訊產業為主，並且在何處成立首座科學園區，奠定臺灣邁向高科技王國的基礎？ (1) 高雄 (2)臺北(3)新竹 (4)臺南。
- () 5 下列哪個項目不算是十大建設的交通建設？ (1)核能發電廠 (2)北迴鐵路 (3)中山高速公路(國道一號) (4) 中正國際機場(臺灣桃園國際機場)。

三、連連看

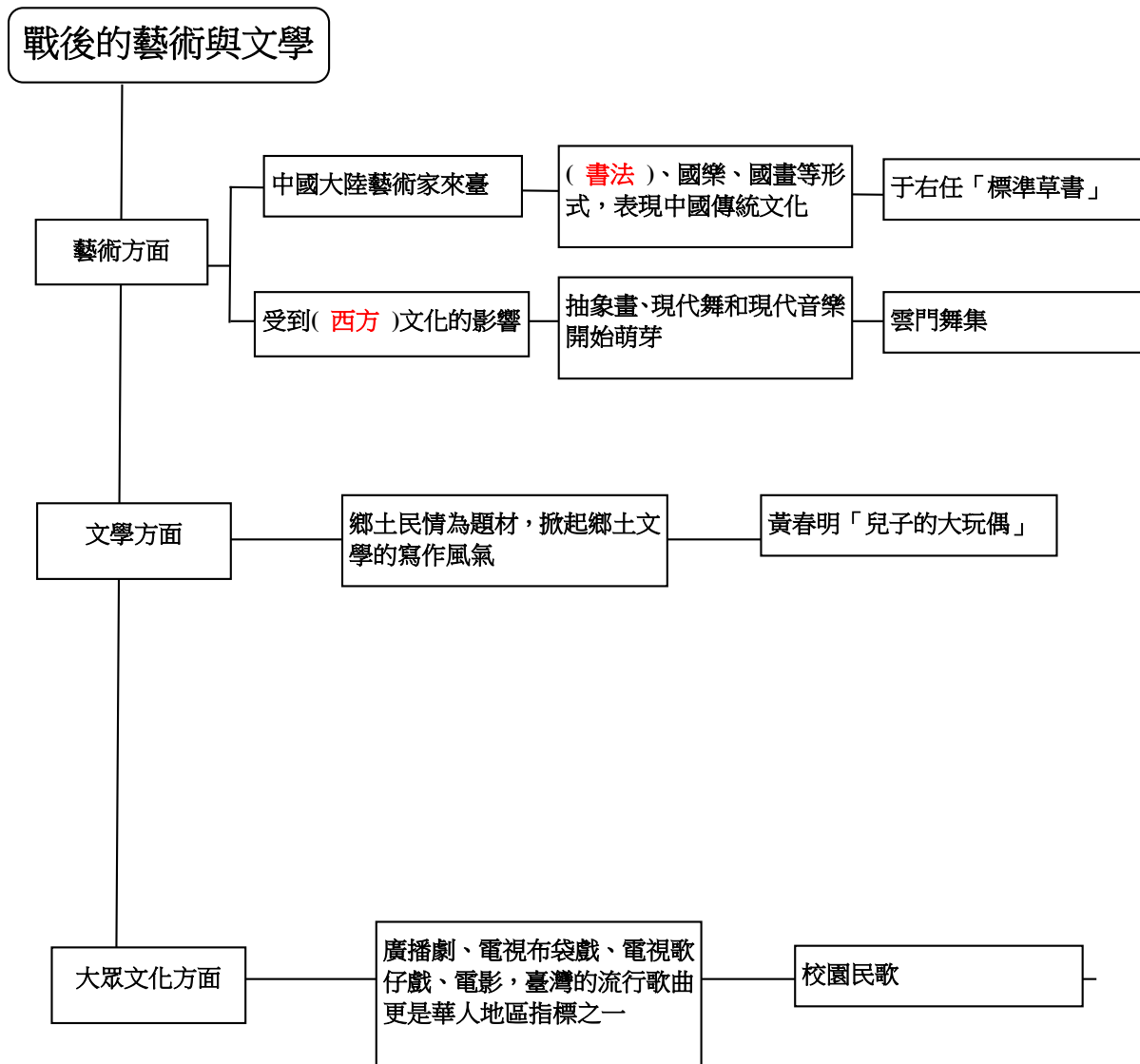
1下列是臺灣戰後各年代的經濟發展，請將正確的項目連起來。

- | | | | |
|-------------|---|---|----------------------|
| (1)民國 40 年代 | ● | ● | A 推動十大建設，解決基礎建設不足的問題 |
| (2)民國 50 年代 | ● | ● | B 於新竹設立臺灣第一座科學園區 |
| (3)民國 60 年代 | ● | ● | C 以通訊、航太及生物科技為發展目標 |
| (4)民國 70 年代 | ● | ● | D 土地改革 |
| (5)現今 | ● | ● | E 設立加工出口區，提供大量就業機會 |

第三單元 中華民國時期



第 3 課 戰後的藝術與文學



第三單元 中華民國時期



一、藝術方面

- 1 民國38年後，許多中國大陸著名藝術家來到臺灣，以書法、國樂、國畫等形式，表現中國傳統文化，例如：于右任精通書法，特別是草書，並創立「標準草書」。
- 2 受到西方文化的影響，抽象畫、現代舞和現代音樂也開始萌芽發展，例如：雲門舞集是第一個職業舞團，常受邀到世界各地表演。

二、文學方面

民國60年代一些作家以臺灣鄉土民情為題材，關注農民、勞工等小人物的遭遇，掀起一股鄉土文學的寫作風氣，例如：鄉土文學作家黃春明的作品「兒子的大玩偶」。

三、大眾文化方面

- 1 廣播劇、電視布袋戲、電視歌仔戲、電影等，都曾經在臺灣社會風靡一時，例如：戰後初期，廣播劇流行，一家大小都會圍在收音機旁收聽。
- 2 臺灣的流行歌曲更是華人地區指標之一，例如：民國60年代流行的校園民歌，是許多人琅琅上口的回憶。

第三單元 中華民國時期



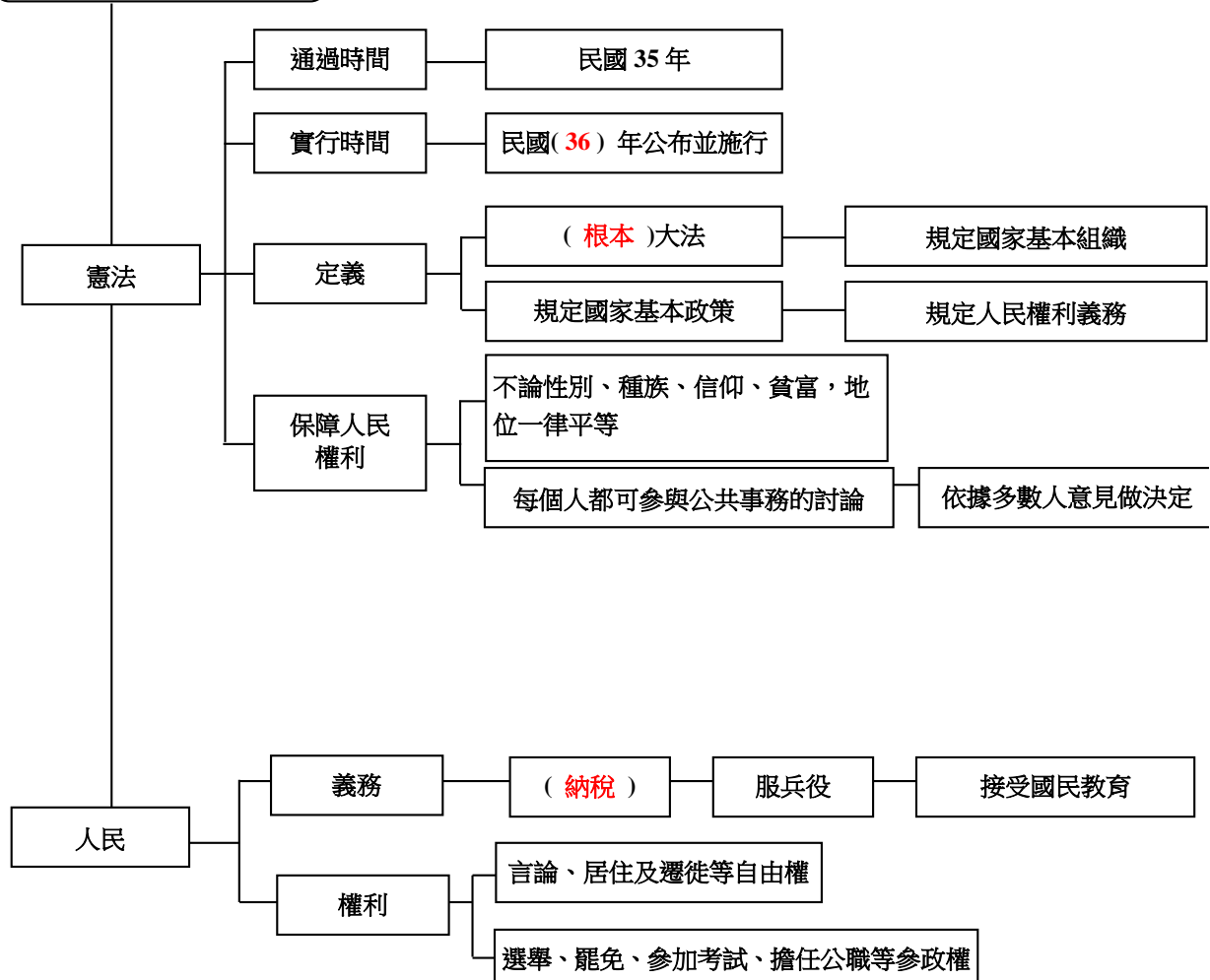
一、是非題

- () 1 民國80年代流行的校園民歌，是許多人琅琅上口的回憶。
- () 2 于右任擅長書法，特別精通草書，並創立「標準草書」。
- () 3 戰後初期，流行網路電視劇，一家大小都會圍在電腦旁邊一起觀看。
- () 4 受到西方文化的影響，抽象畫、現代舞和現代音樂也開始萌芽發展。
- () 5 臺灣的流行歌曲是華人地區的指標之一。
- () 6 戰後初期，臺灣地區家家戶戶都有彩色液晶電視機，所以當時的廣播劇已經不流行了。
- () 7 臺灣藝術在戰後一直維持傳統中華文化風格，完全不受現代西方的影響。

二、選擇題

- () 1 臺灣第一個職業舞團，且常受邀至國外表演，是下列何者？
(1)太古踏舞團 (2)雲門舞集 (3)水影舞集 (4)林向秀舞團。
- () 2 電影「兒子的大玩偶」是根據下列哪位鄉土文學作家的作品改編而成？
(1)吳晟 (2)鍾理和 (3)黃春明 (4)吳濁流。
- () 3 哪些大眾藝術曾在臺灣風靡一時？
(1)布袋戲 (2)歌仔戲 (3)廣播劇 (4)以上皆是。
- () 4 校園民歌曾流行於臺灣哪個年代？
(1)50年代 (2)60年代 (3)70年代 (4)80年代。
- () 5 鄉土文學作家將什麼人物的故事寫成一本又一本的著作？
(1)中小學生 (2)政府高官 (3)農民勞工 (4)戰爭英雄。

人民的義務與權利



一、頒布憲法

1. 憲法

憲法	通過時間	民國 35 年通過。
	實行時間	民國 36 年公布並施行。
	定義	是規定國家的基本政策、基本組織、人民權利與義務的根本大法。

2. 憲法保障人民：

- (1) 每一個人不論性別、種族、信仰、貧富，地位一律平等。
- (2) 每一個人都可以參與公共事務的討論，並依據大多數人的意見來做決定。

二、人民的權利與義務

義務	納稅	政府利用人民繳納的稅金從事公共建設。 【補充】 人民須依照法律規定納稅，如不納稅，國家可以罰款或由法院強制執行。
	服兵役	男性入伍服兵役，報效國家。 【補充】 健全男子年滿18歲後，都有入伍當兵的義務，以保衛國家安全；如果違反，會受到法律制裁。
	接受國民教育	受國民教育是每個人民應盡的義務。 【補充】 年滿6歲的兒童，必須進學校接受國民教育，這是人民的義務也是權利。
權利	1. 人民有居住、遷徙及言論等自由的權利。 2. 選舉、罷免、參加考試、擔任公職等參政權利。	



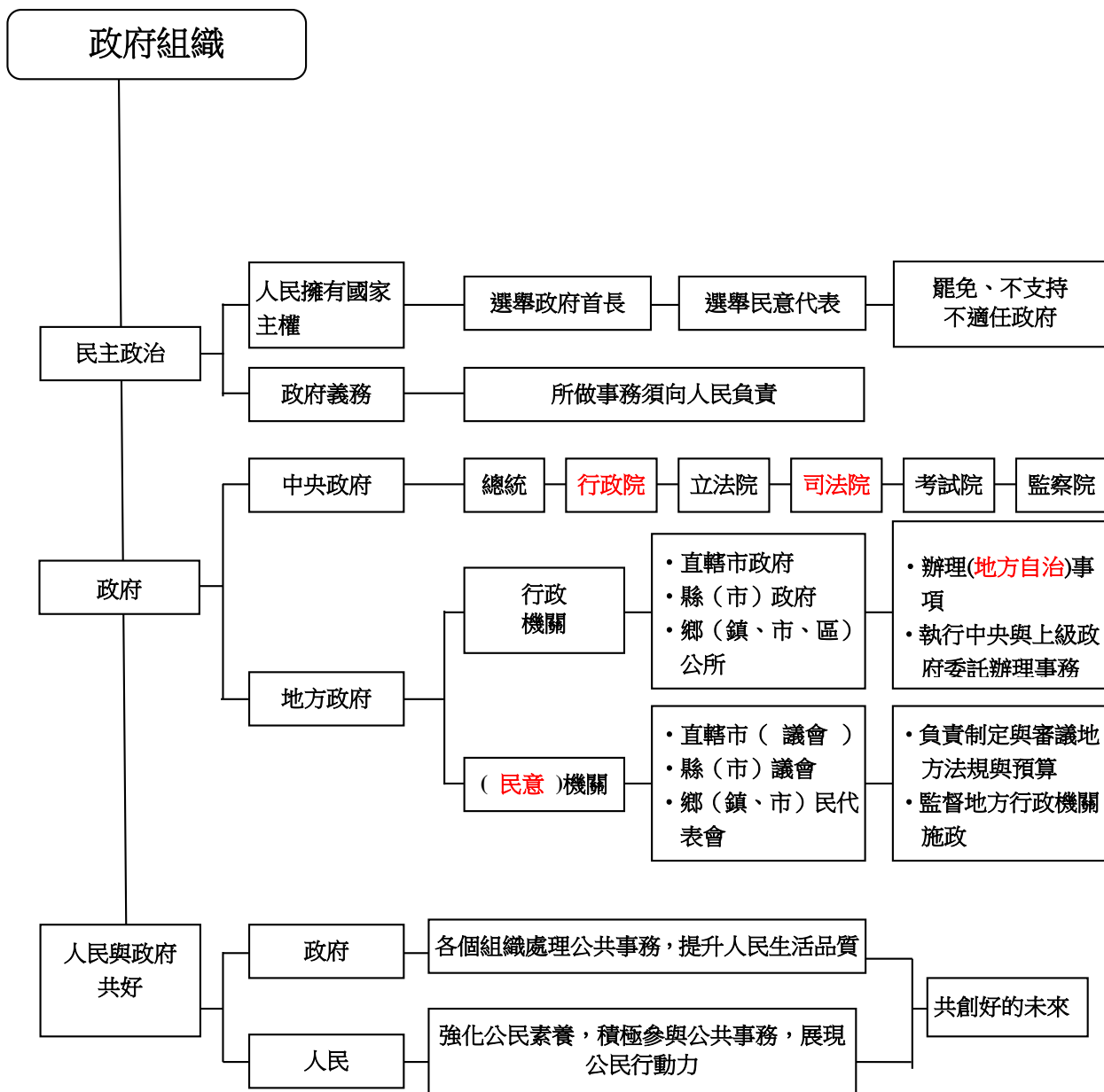
一、是非題

- () 1受國民教育是一種權利，也是義務。
- () 2 納稅是人民的基本義務，所納稅金會用來提升人民生活品質，興建各種公共建設。
- () 3入伍服兵役是人民接受國民教育的基本義務。
- () 4憲法規定國家的基本政策、基本組織、人民權利與義務。
- () 5憲法規定不分性別、種族，每個人都要盡到服兵役的義務。
- () 6憲法規範只有一定學歷以上的人才需要納稅。
- () 7雖然憲法賦予我們言論自由，但不代表我們可以任意毀壞他人名譽。
- () 8我們只需要享有憲法賦予我們的權利，不需要負擔義務。
- () 9居住與遷徙的自由代表我們可以自由選擇住處，也可到處旅行。
- () 10 每個人不論性別、種族、信仰、貧富，地位一律平等，皆可討論國家大事，是受到憲法的保護。

二、勾選題

熊大和朋友在討論：依據中華民國憲法規定，人民有哪些基本義務與權利？下列何者的回應是正確的？請打勾。

- 兔兔：「中華民國的人民都要依法納稅。」
- 莎莉：「沒有見義勇為，會受到法律的制裁。」
- 饅頭人：「不分性別、種族，服兵役是應盡的義務。」
- 詹姆士：「接受國民教育是權利也是義務。」
- 潔西卡：「人民有選舉地方行政首長的權利。」



一、實施民主政治

1. 國民擁有國家主權

行使

- 1選舉政府首長為民服務。
- 2選舉民意代表監督政府。
- 3 罷免、不支持不適任政府。

2.政府的義務

做到

所做事務需向人民負責

二、政府的組織與功能

政府組織

— 中央政府（處理全國性公共事務）

1. 中央政府：

— 地方政府（處理地方性公共事務）

組織主要	職 權
總統	統率國軍、發布緊急命令、任命行政院院長等。
行政院	負責制定有關內政、國防、外交、財政、經濟、教育、交通、法務等政策並執行。
立法院	負責審查預算、制定法律、質詢行政院的施政等。
司法院	管理各級法院，掌理司法行政事項，解釋憲法及法律等。
考試院	負責舉辦各種國家考試等事項。
監察院	負責調查、糾正行政機關，彈劾政府官員等。

2. 地方政府：

	行政機關	民意機關
組織	<ul style="list-style-type: none"> • 直轄市政府 • 縣（市）政府 • 鄉（鎮、市、區）公所 	<ul style="list-style-type: none"> • 直轄市議會 • 縣（市）議會 • 鄉（鎮、市）民代表會
主要職權	<ol style="list-style-type: none"> 1. 辦理地方自治事項。 2. 執行中央與上級政府委託辦理的事務。 	<ol style="list-style-type: none"> 1. 負責制定與審議地方的法規與預算。 2. 監督地方行政機關的施政。



一、選擇題

(4) 1 請根據熊大與兔兔的對話回答問題：

熊大：「我的媽媽是在中央政府機關上班，她的工作之一是舉辦各種國家考試。」

兔兔：「這麼巧，我的媽媽也在中央政府機關上班，但是她主要的工作是負責制定法律與審查預算。」

由上文可知，熊大的媽媽和兔兔的媽媽分別在哪裡工作？(1)考試院、監察院 (2)考試院、司法院 (3)行政院、監察院 (4)考試院、立法院。

(3) 2 下列有關我國實施民主政治的相關說法，哪一個選項正確？

(1)花輪：「國家主權屬於總統。」

(2)美環：「民意代表不能由人民選舉產生。」

(3)小玉：「政府首長所做的事，要向人民負責。」

(4)小丸子：「選出首長後，人民就無權罷免。」

(4) 3 我國國家元首，在任期間具有下列哪一項職權？(1)為人民解釋憲法 (2)制定中央與地方的法律 (3)審查各公家機關預算 (4)統率陸、海、空三軍。

(1) 4 我國地方行政機關負責的工作，與民眾息息相關，但其職權不包含下列哪一項？(1)制定地方法規 (2)處理地方公共事務 (3)執行上級政府委託辦理的事項 (4)維護地方公共衛生。

(2) 5 不論是中央、地方機關，或者是人民、政黨等，只要符合一定條件，就能聲請大法官會議解釋憲法。請問，大法官會議是屬於五院中的哪一院？(1)立法院 (2)司法院 (3)監察院 (4)行政院。

(4) 6 編列中央政府經費及審查國家預算的工作，是由哪一個政府單位所負責？(1)都是由行政院負責 (2)都是由監察院負責 (3)前者由行政院負責，後者為監察院負責 (4)前者由行政院負責，後者為立法院負責。

(2) 7 下列何者不是中央行政機關的主要工作？(1)訂定國家教育政策 (2)興建桃園市的公車專用道 (3)編列中央政府經費 (4)規劃國家經濟發展方向。

(4) 8 下列何者不是地方的立法機關官員？(1)苗栗縣縣議員 (2)臺北市市議員 (3)鄉民代表 (4)桃園市市長。

二、填代號

1請將下列政府組織與其功能，填入正確的（ ）裡。

A.總統 B.行政院 C.立法院 D.司法院 E.考試院 F.監察院

(**A**) 1統率國軍、發布緊急命令。

(**C**) 2 審查預算、質詢行政院的施政。

(**E**) 3 負責舉辦各種國家考試。

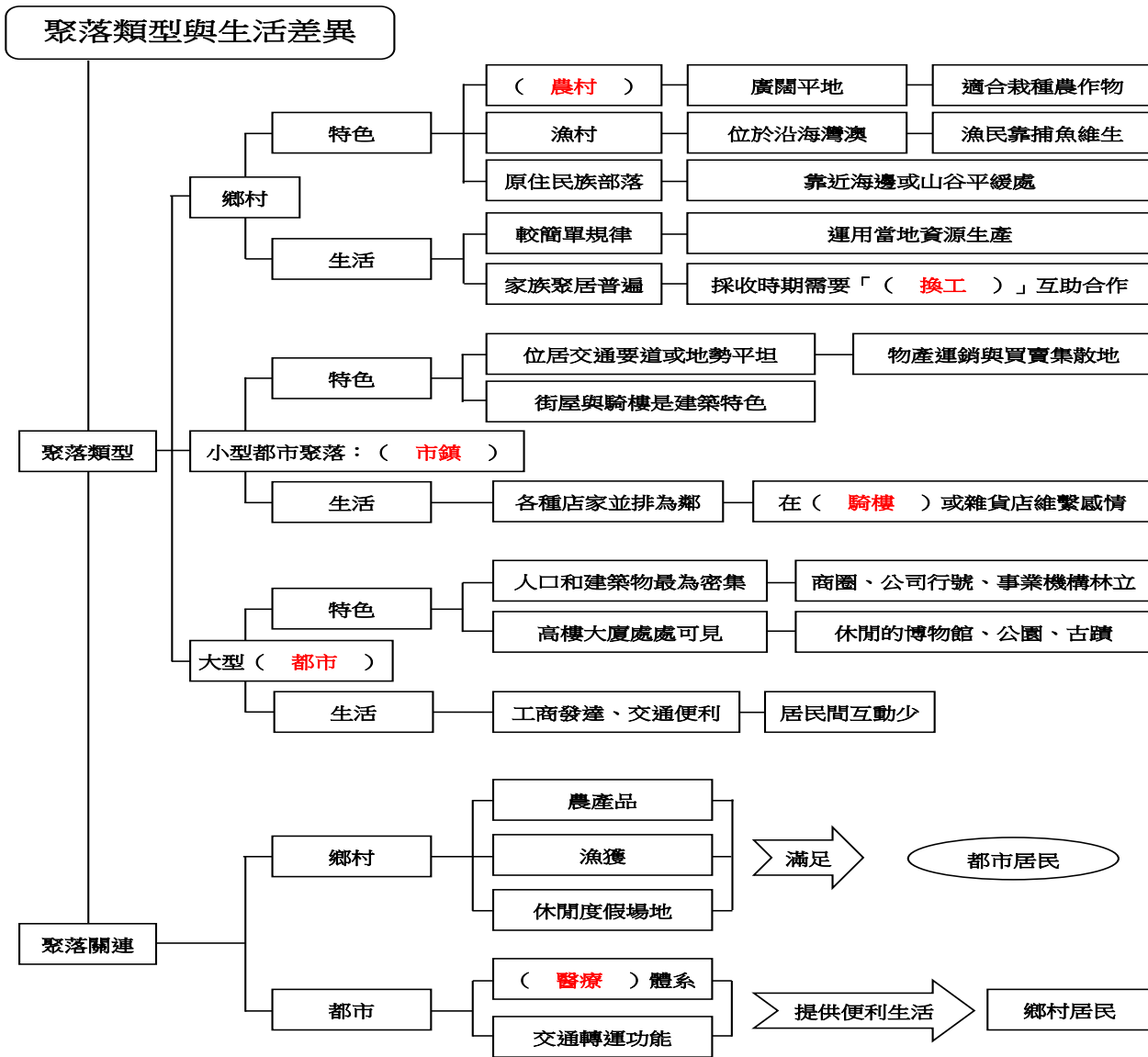
(**F**) 4負責調查、糾正行政機關、彈劾政府官員。

(**D**) 5解釋憲法及法律。

(**B**) 6 制定有關內政、國防、外交、教育、交通、法務等政策並執行。



第 1 課 聚落類型與生活差異



一、聚落的類型

1. 聚落的形成：由人們逐漸聚集定居而成形。
2. 聚落型態不同的原因：各個聚落形成的背景與條件不同。

二、鄉村聚落的特色與生活

1. 鄉村聚落的特色：

聚落類型	特色
鄉村	鄉村的居民通常利用當地自然條件從事相關的生產活動。
	農村 1. 地勢較為寬廣開闊的平地。 2. 適合栽種農作物。
	漁村 1. 位於可以提供船隻停泊的沿海灣澳地區。 2. 漁民依靠捕魚維生。
	原住民部落 常見與海邊或山谷平緩處。

2. 鄉村聚落的生活：

聚落類型	生活差異
鄉村	<ol style="list-style-type: none">1. 較為簡單有規律。2. 村民們大多運用當地的資源從事生活動。例子：農村以耕種為主、漁村以捕魚為生。3. 由於所從事的多半是勞力工作，基於人力上的需求，家族聚居的情形相當普遍，在生活或工作上會彼此互相照應、幫忙。4. 因為需依靠天氣生活，在採收時往往需要相互協助，因此有時會出現「換工」的情形。

三、都市聚落的特色與生活

1. 都市聚落的特色

都市	小型都市聚落： 市鎮	<ol style="list-style-type: none"> 1. 位居交通要道或地勢平坦。 例子：南投縣竹山鎮；是進入中央山脈及通往臺灣東部的交通要道。 2. 物運銷與買賣的集散地。 3. 街屋與騎樓是建築特色。 例子：雲林縣斗六市、彰化縣鹿港鎮。
	大型都市	<ol style="list-style-type: none"> 1. 人口和建築物最為密集。 例子：臺北市、新北市、桃園市、臺中市、臺南市、高雄市。 2. 四、五層樓的公寓或是十幾層以上的高樓大廈處處可見。 3. 各式各樣的商圈、公司行號和大型的事業機構林立。 4. 提供民眾休閒的博物館、公園、古蹟等。

2. 都市聚落的生活

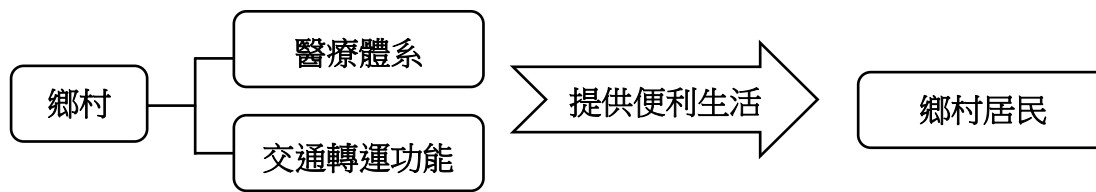
聚落類型	生活差異
小型都市聚落： 市鎮	<ol style="list-style-type: none"> 1. 各種店家並排為鄰。 2. 街屋的騎樓下或雜貨店，是維繫左鄰右舍感情的好地方。
大型都市	<ol style="list-style-type: none"> 1. 工商業發達，交通便利。 2. 公寓和大廈裡的人們，雖然住得近，但彼此從事的行業、工作地點和生活作息往往差別很大，因此互動較少。

四、聚落彼此的關連

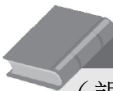
1. 不同的聚落類型和生活型態各有其優、缺點，但彼此的關係密切。
2. 鄉村的農產品、漁獲、休閒度假場地等，滿足了市鎮和都市居民的需求。



3. 都市的醫療體系、交通轉運功能等，提供市鎮和鄉村更為便利的生活。



4. 城鄉之間需要互助合作，才能達到共榮的願景。

 **名詞解釋**
(課本P53)
集散地：聚集與分散貨物的地方。



一、配合題

請將聚落特色代號填入相對應的聚落類型中。

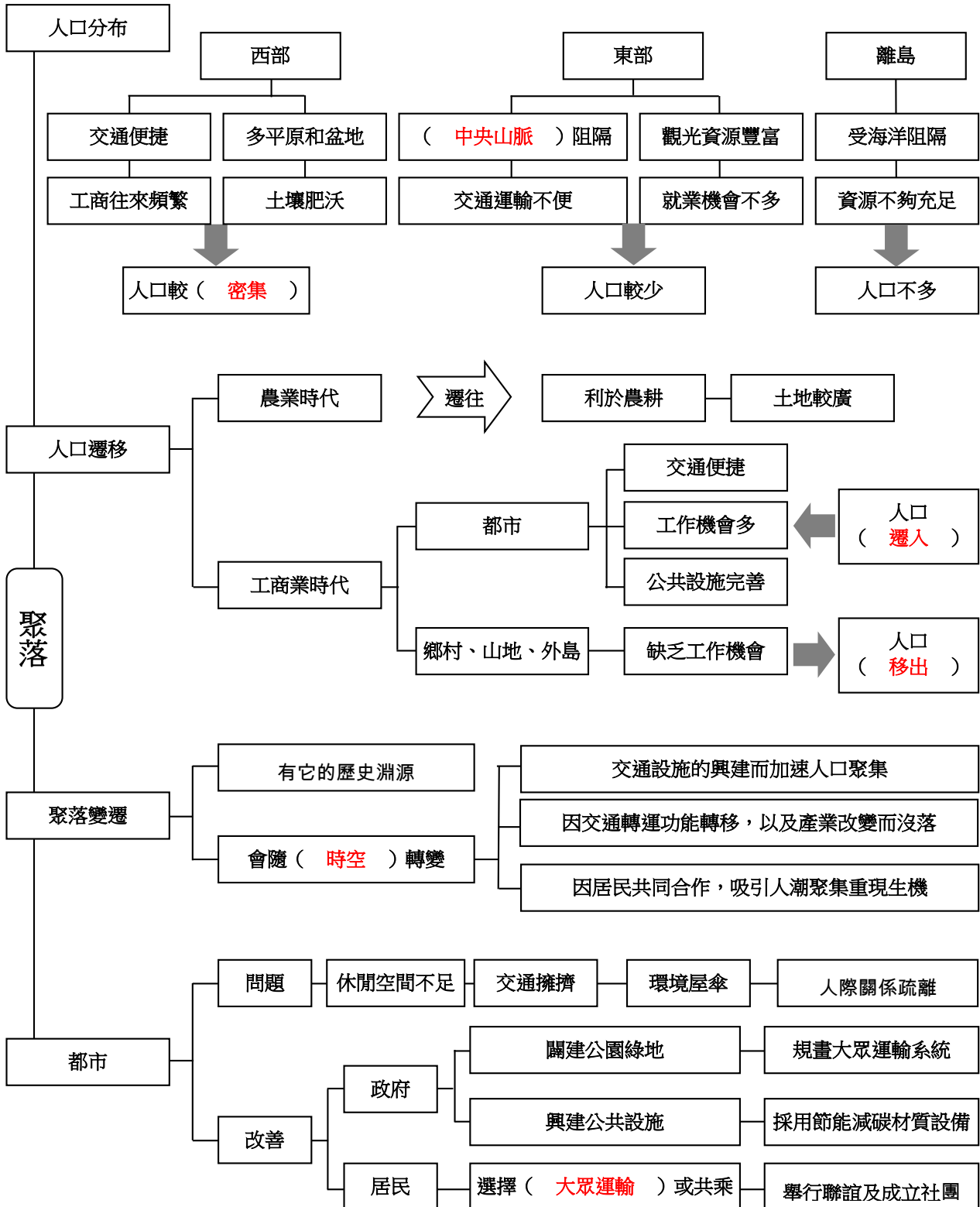
- A.利用當地自然條件從事生產 B.適合栽種農作物、地勢平坦的平地
 C.可停泊船隻的沿海灣澳地區 D.物產運銷與買賣的集散地 E.位居交通要道
 F.隨處可見街屋與騎樓 G.人口和建築物很密集 H.經常舉辦大型商展
 I.建有公園、博物館等

鄉村： A、B、C 市鎮： D、E、F 大型都市： G、H、I

二、選擇題

- (4) 1. 依照課本所述，聚落是如何形成？ (1)經由總統府指定而形成 (2)經由縣市代表規畫而形成 (3)當地的富豪購地而形成 (4)經由人們逐漸聚集定居而形成。
- (4) 2. 喜愛旅遊的小名來到一個地方，看到許多漁民正在整理漁獲。小名所在的地方屬於哪一種聚落？ (1)市鎮 (2)農村 (3)大型都市 (4)漁村。
- (1) 3. 阿芳向同學們介紹一個地方，那地方街屋連棟，商行林立，還是個商品集散地。阿芳所介紹的地方屬於哪一種聚落？ (1)市鎮 (2)農村 (3)大型都市 (4)漁村。
- (1) 4. 下列何種聚落工業發達、交通便利？ (1)大型都市 (2)市鎮 (3)鄉村 (4)以上皆是。
- (2) 5. 市鎮中的哪個地方是維繫左鄰右舍感情的好地方？ (1)鎮長家中 (2)雜貨店 (3)鎮公所 (4)圖書館。
- (3) 6. 欣欣想去一趟旅遊展，蒐集相關資訊和購買優惠票券。欣欣比較可能去哪個地方參加旅遊展？ (1)屏東 (2)花蓮 (3)高雄 (4)蘭嶼。
- (4) 7. 下列何種資源可能是鄉村較無法提供給市鎮和都市的？ (1)農產品 (2)漁獲 (3)休閒度假場地 (4)醫療資源。
- (1) 8. 下列何種資源可能是都市較無法提供給鄉村的？ (1)農產品 (2)大型商展 (3)博物館 (4)被定為古蹟的公園。
- (2) 9. 城鄉之間要如何做，才能達到共榮的願景？ (1)各自努力 (2)互助合作 (3)將鄉村都市化 (4)將都市鄉村化。
- (1) 10. 詹姆士的家鄉是農村，可以常看到什麼景觀？ (1)一望無際的稻田 (2)美麗的港灣 (3)密集的人口 (4)高樓大廈。

第 2 課 聚落的演變



一、人口的分布

1. 影響人們選擇居住地的因素，例如有：

- (1) 自然環境特性。
- (2) 交通便利性。
- (3) 就業機會。

2. 臺閩地區的人口與分布：

地區	影響人口數的原因	人口數
西部地區	1.地勢多為較低平的平原和盆地，開發較早。 2.土壤肥沃。 3.交通網路便捷。 4.工商業往來頻繁。	較為密集
東部地區	1.受到中央山脈的阻隔，開發較晚。 2.觀光資源豐富。 3.交通運輸不便。 4.就業機會不多。	較少
離島地區	1.受到海洋阻隔。 2.交通、土地等各項資源不夠充足。	不多

二、人口的遷移

農業時代	工商業時代	
	都市	部分鄉村、山地、外島
人們會選擇遷往下列地方尋找新耕地： 1.利於農耕。 2.土地較為寬廣。	環境條件： 1.交通便捷。 2.工作機會多。 3.公共設施完善。	環境條件： 缺乏適當的工作機會。
	成為移居的新去處（遷入）	造成人口外移（遷出）

三、聚落的變遷

每個聚落的形成：

- 1.有它的歷史淵源。
- 2.會隨著時空有所轉變：

(1) 可能因為交通設施的興建而加速人口聚集。

變遷例子	繁榮原因
高雄市、臺南市、臺中市、新北市、臺北市、桃園市。	交通較便利、人口較多。

(2) 可能因為交通轉運功能的轉移，以及產業改變而沒落，加劇城鄉的差距。

變遷例子	沒落原因
鹿港、艋舺（今萬華）。	因河港泥沙淤積及運輸方式改為陸運後，漸失繁榮。

(3) 透過居民的共同合作，吸引人潮聚集而重現生機。

變遷例子	重生原因與成果
宜蘭縣東岳社區	泰雅族青年利用企劃及電腦專長，結合長輩的傳統智慧，使原來的農村再生，建立社區業。
嘉義縣板頭村	在地方藝術家與社區居民的共同參與及活動的推廣下，發展成「板頭剪黏藝術村」。

四、都市的現在與未來

1. 都市聚集了大量人口後，容易產生一些問題，例如：

- (1) 休閒空間不足。
- (2) 交通擁擠。
- (3) 環境汙染。
- (4) 人際關係疏離

2. 問題的改善方式，例如：

政府	1. 應多闢建公園綠地。 2. 規畫大眾運輸系統。 3. 興建公共設施。 4. 採用節能減碳材質的設備。
居民	1. 藉由共乘方式，降低車輛的使用率。 2. 定期舉行聯誼活動及成立社團，改善都市居民之間的人際互動疏離。



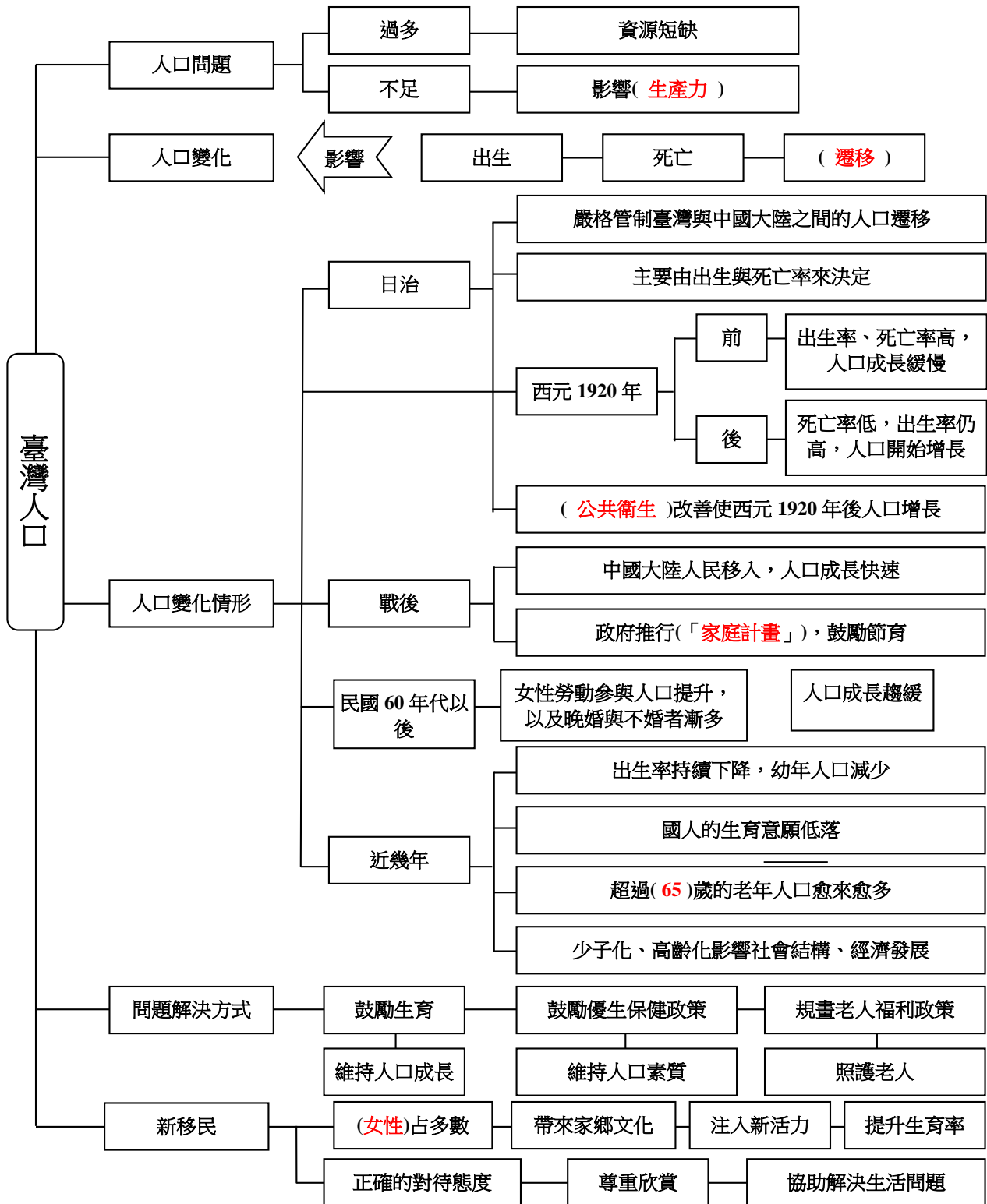
一、是非題

- () 1. 自然環境的特性、交通便利性及就業機會等因素，經常影響人們對於居住地點的選擇。
- () 2. 人們一旦選擇定居之地後，通常終生不會再遷居其他的地方，無論新地點條件有多好。
- () 3. 如果居住環境很好，例如：工作機會多、交通便捷等，會吸引人們遷居。
- () 4. 臺灣西部地區擁有地勢較低平的平原和盆地，因此人口較為密集。
- () 5. 臺灣東部地區風景秀麗，因此吸引不少人前往定居，人口數幾乎和西部地區一樣多。
- () 6. 澎湖、馬祖等地雖然交通資源不夠充足，但因為土地遼闊平坦，土壤肥沃，因此人口數是最為密集的地區。
- () 7. 以課本的「臺閩人口分布圖」來看，臺灣的人口大部分都居住在西部地區。
- () 8. 傳統的農業時代，人們會選擇遷往利於農耕、土地較為寬廣的地方，尋找新耕地。
- () 9. 缺乏適當工作機會，不是造成部分鄉村、山地和外島居民遷出的原因之一。
- () 10. 許多傳統的農業鄉鎮因為進行社區改造的關係，外在環境有所改善，因此近年的人口不斷移入。
- () 11. 每個聚落的形成，都有它的歷史淵源，也會隨著時空有所轉變。
- () 12. 交通轉運功能的轉移以及產業改變，有可能導致一個聚落沒落。
- () 13. 雪山隧道的開通，造成坪林區觀光人數銳減，但坪林居民未做任何努力去改變這困境。
- () 14. 一個聚落的興起或沒落，是人們無法改變與掌握地，再多努力都徒勞無功。
- () 15. 居民們的通力合作，也是聚落能重新興起的重要因素。

二、選擇題

1. 下列哪些是臺灣西部地區人口較為密集的原因？請打勾（複選）。
- 公共設施完善 地勢較低平 腹地較廣 工作機會多
工商業往來頻繁 土壤肥沃 房價便宜 便捷的網路交通
2. 下列哪些是臺灣東部地區人口較少的原因？請打勾（複選）。
- 房價昂貴 受中央山脈阻隔 就業機會不多
交通運輸不便 居住環境吵雜 經常下雨
海水倒灌情形嚴重 較無法發展工商業
3. 人口過度集中較容易產生哪些社會問題？請打勾（複選）。
- 資源分配不均 城鄉差距過大 休閒空間不足 環境汙染
交通擁擠 房價過高 居住空間擁擠 犯罪率上升
4. 面對因人口過多所造成的問題，可以怎麼改善？請打勾（複選）。
- 改善不了，不用理會 闢建公園綠地 交給政府處理即可
規畫大眾運輸系統 採用節能減碳材質的設備 多多共乘

第 3 課 臺灣人口的變化



一、臺灣人口的變化

1. 人口的多寡與社會經濟發展息息相關。
2. 人口不足或過多都會產生問題：

人口數	產生的問題
不足	會影響生力。
過多	會造成資源短缺。

3. 人口數量的變化，受到出生、死亡和遷移等因素的影響。
4. 一個地區人口數增長的條件：出生及移入的人數總和 > 死亡與移出的人數總和。
5. 臺灣人口變化情形：

時期	人口變化情形
日治時期	(1)嚴格管制臺灣與中國大陸之間的人口遷移。 (2)此時期的人口變化主要由出生與死亡率來決定。 (3)出生率高，死亡率也高，人口成長緩慢。 前 後 死亡率降低，但出生率仍高，人口開始增長。 ←【西元 1920 年】→ (4)公共衛生的改善，是西元 1920 年之後人口有較多增長的原因。
戰後初期	(1)因中國大陸人民大量移入，造成人口成長快速。 (2)民國 50 年代開始，為了解決人口膨脹的問題，政府推行「家庭計畫」，鼓勵節育，才使人口成長漸緩。 (3)家庭計畫宣導「一個孩子不算少，兩個孩子恰恰好，男生女生一樣好」。
民國 60 年以後	隨著女性勞動參與人口提升，以及晚婚與不婚者漸多，人口成長漸趨緩慢。
近幾年	(1)出生率持續下降，造成幼年人口減少。 (2)婚姻觀念改變與社會經濟環境等因素，造成國人的生育意願低落。 (3)國人平均壽命延長，超過 65 歲的老年人口愈來愈多。 (4)「少子、高齡化」加重青、壯年人口的負擔，影響社會結構、經濟發展。

二、人口問題解決方式

1. 鼓勵生育，維持人口合理的成長。
2. 推動優生保健政策，提升人口素質。
3. 規畫老人福利政策，讓長者生活得安心、舒適。

三、新成員的加入

1. 以婚姻因素移入臺灣的新移民女性占多數。
2. 新移民女性對臺灣的貢獻：

知識家

高齡化社會：65歲以上的人稱為老年人，當國家65歲以上的人口占總人口7%以上時，便稱為高齡化社會。臺灣在民國82年時，老年人口已經超過7%。民國106年時已經達到13.86%。

(1)帶來家鄉的文化特色；(2)為臺灣社會注入新活力；(3)提升我國的生育率。

3. 對待新移民的正確態度：

(1)以尊重、欣賞的態度接納他們；(2)協助他們解決生活上的問題。



一、配合題

請將人口變化代號填入相對應的時期中。

- | | |
|-----------------------|-----------------|
| A.西元1920年後，人口開始有較多的增長 | B.人口變化由出生與死亡率決定 |
| C.推行家庭計畫政策 | D.中國大陸人民大量移入 |
| E.有人口膨脹的問題 | F.出現「少子、高齡化」的現象 |
| G.國人生育意願低落 | H.青、壯年人口的負擔加重 |
| I.女性勞動參與人數的提升 | J.晚婚與不婚者增多 |
| K.人口成長漸趨緩慢 | |

日治時期： A、B

戰後初期： C、D、E

民國60年代以後： I、J、K

近幾年： F、G、H

二、簡答題

1. 人口數量的變化，除了出生與死亡之外，還受到哪一個因素的影響？

答：遷移

2. 當一個地區出生及移入的人數總和，大於死亡與移出的人數總和，當地的人口數將會有何變化？

答：增加

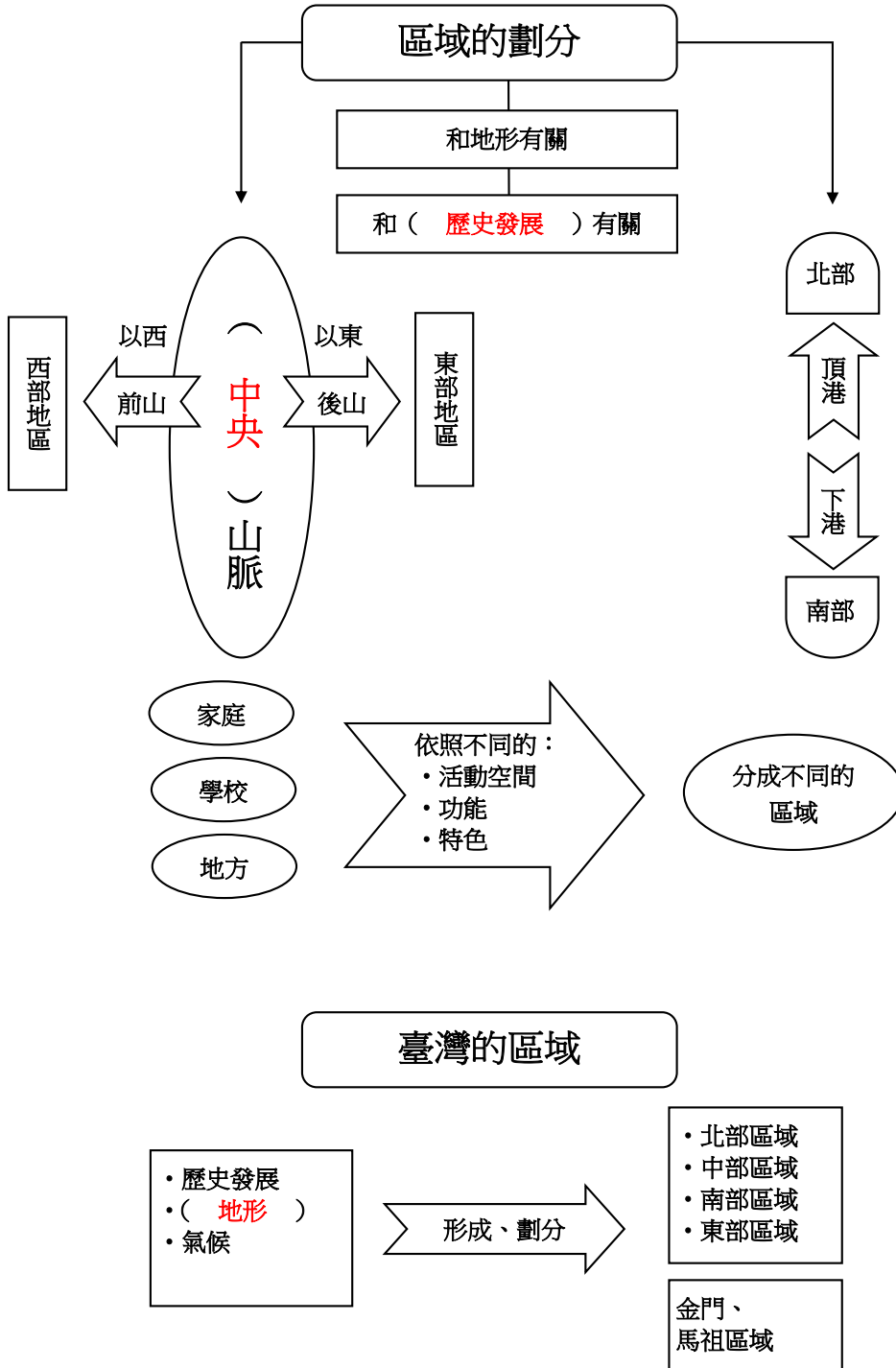
3. 日治時期，人口成長緩慢與人口開始有較多增長的分界，是西元哪一年？

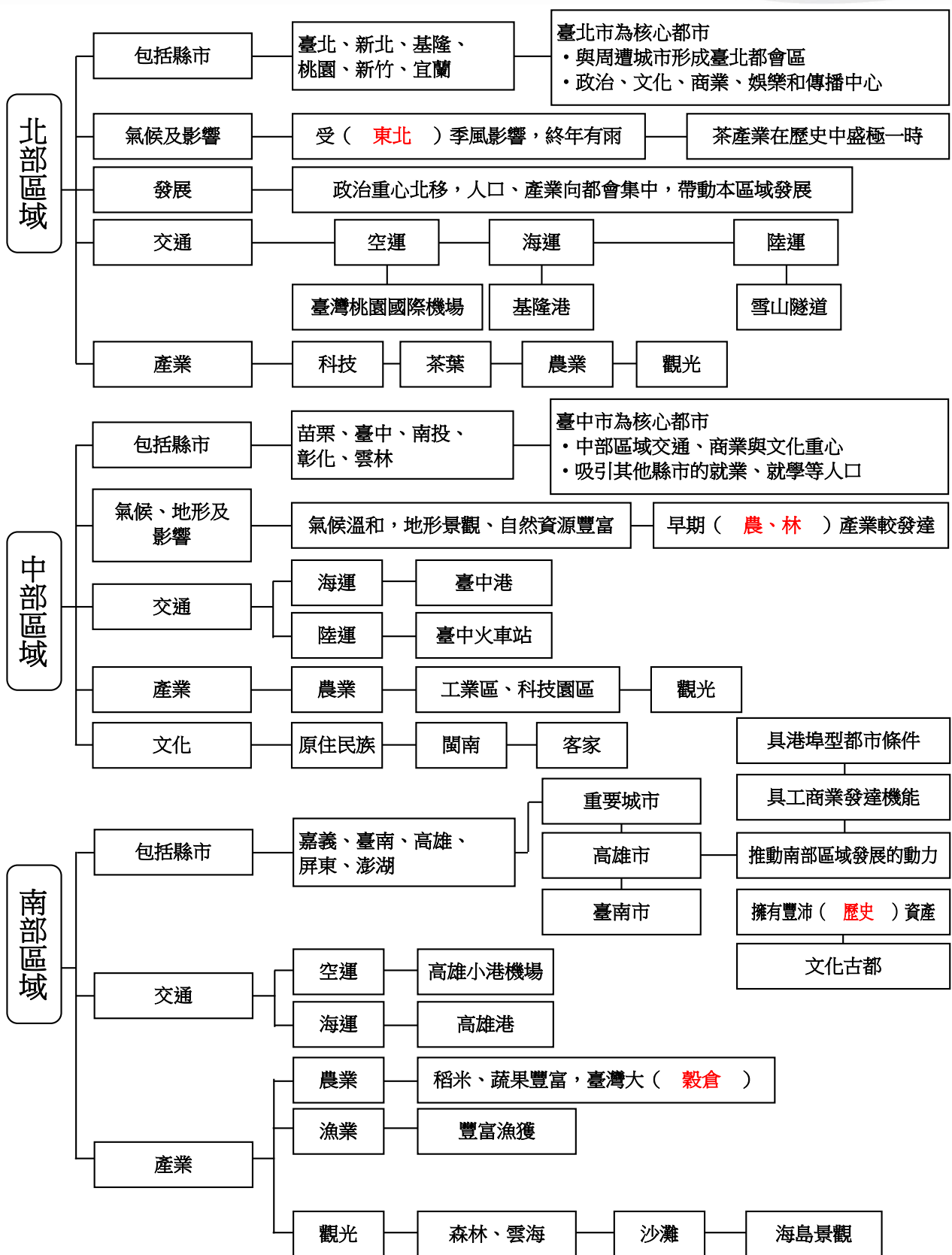
答：1920年

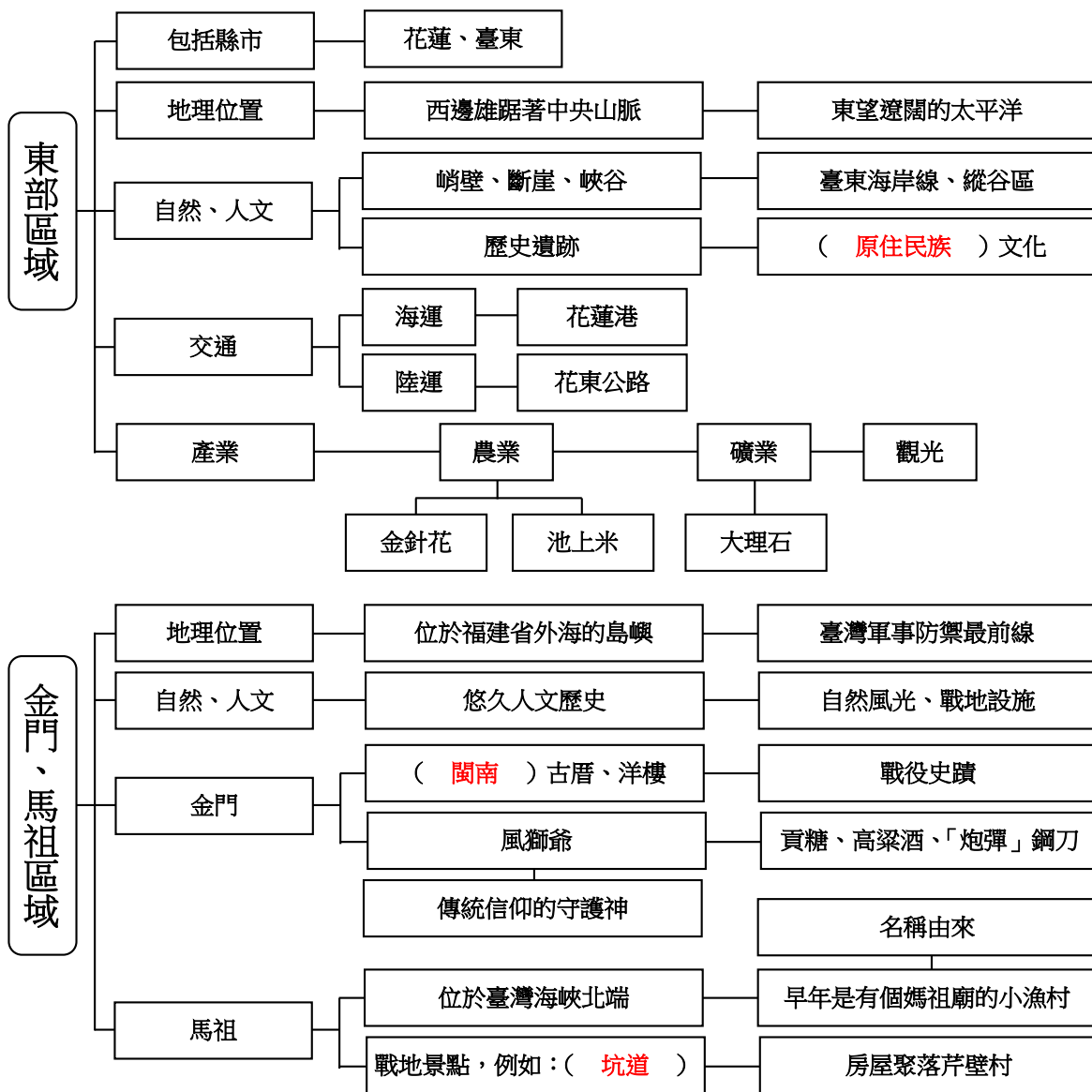
三、選擇題

- (1) 1. 國家人口若不足，會對下列哪一項造成影響？ (1)生產力 (2)邦交國家 (3)文化水準 (4)審美能力。
- (4) 2. 日治時期，政府曾嚴格管制臺灣與哪一個地方之間的人口遷移？ (1)越南 (2)日本 (3)韓國 (4)中國大陸。
- (2) 3. 光復初期，什麼原因造成臺灣的人口成長快速？ (1)國家推出生育津貼政策 (2)中國大陸移入大量人民 (3)大量的留學生回國 (4)日本人大量移居臺灣。
- (3) 4. 民國50年代開始，政府積極推行哪項政策，以解決人口膨脹的問題？ (1)結婚計畫 (2)教育計畫 (3)家庭計畫 (4)移民計畫。
- (4) 5. 當國家65歲以上的人口占總人口百分之多少以上時，便稱為高齡社會？ (1)7% (2)8% (3)9% (4)14%。
- (4) 6. 臺灣在民國幾年時，已經成為高齡化社會？ (1)民國50年 (2)民國65年 (3)民國72年 (4)民國82年。
- (4) 7. 臺灣的新移民為臺灣做出哪些貢獻？ (1)為臺灣注入新的活力 (2)讓臺灣的文化更多元 (3)提升臺灣的生育率 (4)以上皆是。

第 1 課 北中南東看臺灣





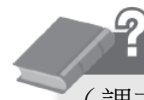


一、劃分臺灣區域的方式

1. 區域的劃分，可能和地形或歷史發展有關。
2. 有人稱北部為「頂港」；南部為「下港」。
3. 過去有人以中央山脈為界，分為前山（指西部地區）、後山（指東部地區）。
4. 家庭、學校、地方也可依不同的活動空間、功能、特色等，分成不同區域。
5. 隨著歷史發展、地形與氣候等因素，臺灣形成北、中、南、東四大區域，另外，金門、馬祖也是很有特色的離島地區。

二、北部區域

1. 包括的縣市：臺北、新北、基隆、桃園、新竹、宜蘭等縣市。
2. 氣候與其影響：臺灣北部受東北季風影響，終年有雨，加上丘陵地形等條件，使得茶產業在早期的歷史發展中盛極一時。
3. 北部區域的發展：在臺灣政治重心轉移到北部之後，人口、產業隨之向都會區集中，帶動本區域的發展。
4. 以臺北市為核心都市：
 - (1) 新北、基隆、桃園環繞在四周，並發展成為臺北都會區。
 - (2) 因人口眾多、工商業繁榮，使得臺北都會區成為臺灣的政治、文化、商業、娛樂和傳播中心。
5. 交通：
 - (1) 空運：臺灣桃園國際機場，為臺灣重要的人出境門戶。
 - (2) 海運：基隆港，是一座天然良港。
 - (3) 陸運：
 - A. 便捷的大眾運輸，例如：捷運、公車。
 - B. 國道5號（蔣渭水高速公路）。
 - C. 貫穿新北和宜蘭兩地的雪山隧道。
6. 產業：
 - (1) 科技：新竹科學園區和臺北的資訊服務使臺灣成為世界聞名的科技島。
 - (2) 茶業：新竹縣北埔鄉出產東方美人茶，是臺灣的茶鄉之一。
 - (3) 農產：宜蘭縣三星鄉的青蔥是著名的農產品。
 - (4) 觀光工廠：新北市、桃園市、宜蘭縣等地區的傳統產業，結合觀光功能，呈現新的人文風貌，例如：桃園、宜蘭的觀光工廠等。
 - (5) 觀光：各種國際活動、新北市三峽老街、宜蘭冬山河親水公園等。



名詞解釋

（課本P72）

核心：中心，主要的部分。

三、中部區域

1. 包括的縣市：苗栗、臺中、南投、彰化、雲林等縣市。
2. 氣候、地形和其影響：
 - (1) 此區域氣候溫和，地形景觀豐富多變，蘊含多樣的自然資源。
 - (2) 使得早期的農、林產業較為發達，例如：香蕉、樟腦、濁水米都曾是重要的出口產品。
3. 以臺中市為核心都市：
 - (1) 為中部區域交通、商業與文化的重心所在。
 - (2) 吸引其他縣市的就業、就學、購物、娛樂、醫療等人口。
4. 交通：
 - (1) 海運：臺中港。
 - (2) 陸運：臺中火車站，屬國定古蹟，人潮匯聚，是中部區域南來北往的中心。

5. 產業：

- (1) 農業：苗栗、彰化、雲林田園之美。
 - A. 苗栗的休閒農業遠近馳名。
 - B. 彰化是著名的花卉和農產品產區。
 - C. 雲林擁有臺灣最大的果菜集散市場。
- (2) 製造業：苗栗、彰化、雲林製造業也很發達，許多中小型工廠與工業區提供了就業機會。
- (3) 觀光：苗栗油桐花季與客家文化嘉年華、臺中武陵農場、彰化八卦山大佛、南投霧社賽德克族小米播種祭、南投埔里臺灣地理中心碑、南投日月潭、南投集集小火車與綠色隧道、南投合歡山、雲林西螺大橋等。

四、南部區域

1. 包括的縣市：嘉義、臺南、高雄、屏東、澎湖等縣市。
2. 氣候：此區域大都位於北回歸線以南，屬於熱帶型氣候，全年氣溫較高。
3. 重要城市：

(1) 高雄市：

- A. 緊鄰著高雄港，具備港埠型都市的優勢條件
- B. 有著工商業發達的機能。
- C. 扮演推動南部區域發展的動力火車。

(2) 臺南市：

- A. 自古人文薈萃，擁有豐沛的歷史資產。
- B. 古蹟、廟宇、民俗活動以及特色小吃種類繁多，展現「文化古都」的生命力。

4. 交通：

- (1) 空運：高雄小港機場。
- (2) 海運：高雄港，貨櫃裝卸頻繁，航運位置十分重要。

5. 產業：

(1) 農業：

- A. 位於嘉義到臺南之間廣闊的嘉南平原，地勢平坦、土質肥沃、氣候溼熱，水利設施完善，因此稻米、蔬果等農作物產量豐富，稱得上是臺灣的大穀倉。
- B. 屏東香甜的水果（蓮霧、鳳梨、木瓜等）是得利於熱帶充足的日照。

(2) 漁業：豐富的漁獲是得利於海洋的資源。

(3) 工業：高雄是臺灣的重化工業中心。

(4) 觀光：各種文化活動（鄭成功文化節），嘉義阿里山日出、雲海、神木、小火車，屏東墾丁的豔陽沙灘、鵝鑾鼻燈塔，澎湖海島景觀、水上活動。

知識家

港埠型都會：許多城市聚落的興起和港口密切相關；藉由港口的便利性，不僅工商業蓬勃發達，也促使了都市的繁榮與發展。世界上還有許多著名的都市也是這種港口和城市合併在一起的型態，例如：德國漢堡、美國洛杉磯、新加坡和中國上海等。

五、東部區域

1. 包括的縣市：花蓮、臺東兩縣。
2. 地理位置：西邊雄踞著中央山脈，東望遼闊的太平洋。
3. 自然與人文景觀：
 - A. 花蓮遠近馳名的峭壁、斷崖和峽谷，令人讚嘆大自然的鬼斧神工。
 - B. 臺東的海岸線和縱谷區，勾勒出海天一色的山海風情。
 - C. 有許多歷史遺跡。
 - D. 原住民族舉辦歲時慶典的多元文化風貌。
4. 交通：
 - (1) 海運：花蓮港。
 - (2) 陸運：花東公路，貫穿臺灣東部。
5. 產業：
 - (1) 農業：
 - A. 太麻里滿山的金針花，是當地特殊的農業景觀。
 - B. 池上米，聞名全省，米質香Q可口。
 - (2) 礦業：花蓮大理石。
 - (3) 觀光：蘭嶼船祭、花東縱谷、花蓮阿美族豐年祭、秀姑巒溪泛舟、臺東三仙臺跨海步橋、知本溫泉、卑南史前文化遺址、臺灣史前文化博物館、八仙洞的長濱文化遺址、綠島海底溫泉、人權紀念碑。

六、金門、馬祖區域

1. 地理位置：金門、馬祖位於福建省外海的島嶼，是臺灣軍事防禦的最前線。
2. 自然與人文景觀：擁有悠久的人文歷史、自然風光和戰地設施。
3. 金門：
 - (1) 閩南古厝和洋樓，具有古樸典雅的傳統建築之美。
 - (2) 發生於近代的戰役，在島內留下值得紀念的史蹟，如古寧頭的戰車。
 - (3) 特產，例如：貢糖、高粱酒、「炮彈」鋼刀。
 - (4) 風獅爺是傳統信仰的守護神。
4. 馬祖：
 - (1) 位於臺灣海峽北端。
 - (2) 名稱由來：早年是一個有著媽祖廟的小漁村，因此命名為馬祖。
 - (3) 以前的駐軍留下許多具特色的戰地景點，如坑道。
 - (4) 充滿岩石粗獷樸拙之美的房屋聚落，如芹壁村。



一、勾選題

- (1) 1. 臺灣哪一個區域受到東北季風的影響，終年有雨？ (1)北部區域 (2)中部區域 (3)南部區域 (4)東部區域。
- (2) 2. 哪一個區域的早期農、林產業較為發達，擁有幾樣重要的出口產品？ (1)北部區域 (2)中部區域 (3)南部區域 (4)東部區域。
- (2) 3. 臺灣哪一個縣市的名稱，與早年是個有著媽祖廟的小漁村有關？ (1)澎湖 (2)馬祖 (3)雲林 (4)臺南。
- (4) 4. 臺灣形成北、中、南、東四大區域，與何項因素有關？ (1)歷史發展 (2)地形 (3)氣候 (4)以上皆是。
- (1) 5. 下列哪一個縣市有著工商業發達的機能，並且扮演推動南部區域發展的動力火車？ (1)高雄市 (2)臺南市 (3)嘉義縣 (4)屏東縣。
- (3) 6. 有「臺灣大穀倉」之稱的平原是哪一個？ (1)宜蘭平原 (2)屏東平原 (3)嘉南平原 (4)花東縱谷平原。
- (4) 7. 下列哪一座城市擁有豐沛的歷史資產，最具有「文化古都」的生命力？ (1)臺北市 (2)新北市 (3)臺中市 (4)臺南市。
- (4) 8. 陳媽媽很怕冷，希望能搬遷到全年氣溫較高的地方居住。你會建議陳媽媽可以搬到哪個縣市居住？ (1)高雄市 (2)嘉義縣 (3)屏東縣 (4)以上皆可。
- (1) 9. 臺灣的哪一個區域最具有戰地景觀，可以看到戰車、坑道等軍事設施？ (1)金門、馬祖區域 (2)中部區域 (3)南部區域 (4)東部區域。
- (3) 10. 下列何者為金門傳統信仰的守護神？ (1)石獅 (2)門神 (3)風獅爺 (4)龍雕柱。
- (2) 11. 下列哪一項是金門著名的特產之一？ (1)黑糖糕 (2)炮彈鋼刀 (3)陶瓷 (4)米粉。

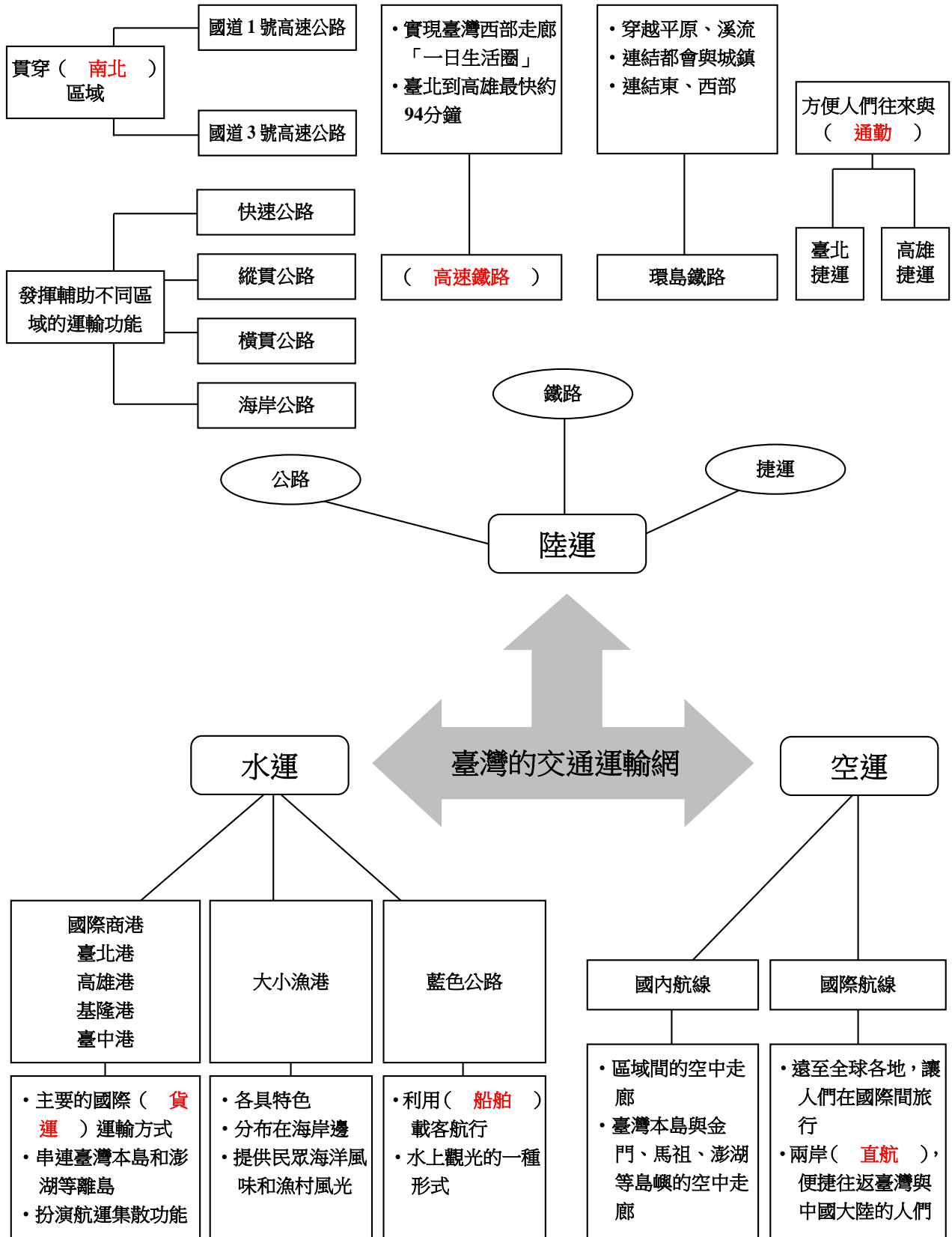
二、填代號

請填入相對應的代號。

- | | | | |
|---------|--------|--------|--------|
| A.新北平溪 | B.新竹北埔 | C.花蓮 | D.臺東蘭嶼 |
| E.嘉義阿里山 | F.臺東綠島 | G.桃園觀音 | H.苗栗大湖 |

- 【 B 】 1. 我想幫愛喝茶的媽媽買一些東方美人茶。
- 【 A 】 2. 妹妹和同學約好要去放天燈。
- 【 C 】 3. 我想要看大理石礦廠及大理石石雕藝術。
- 【 E 】 4. 小新一家規畫要去看日出。
- 【 H 】 5. 下星期家族旅行要來一趟採草莓之旅。
- 【 G 】 6. 爸爸帶著畫具要去蓮花池邊寫生。
- 【 F 】 7. 我想和人權紀念碑拍一張照。
- 【 D 】 8. 王老師安排學生參觀拼板舟的製作過程。

第 2 課 寶島行透透



臺灣區域間的交通，透過陸運、水運、空運等方式，連結成綿密的交通運輸網。

一、陸運

項目	說明	
公路	國道 1 號高速公路	貫穿南北區域的公路動脈。
	國道 3 號高速公路	
	快速公路	充分發揮輔助不同區域間的運輸功能。
	縱貫公路	
	橫貫公路	
	海岸公路	
鐵路	環島鐵路	穿越平原、溪流，連結都會與城鎮、東部與西部。
	臺灣高速鐵路	1.實現臺灣西部走廊「一日生活圈」的理想。 2.從臺北到高雄最快約 94 分鐘。
捷運	臺北、高雄大眾捷運	方便人們往來與通勤。

二、水運

項目	說明
臺北港、高雄港 基隆港、臺中港	1.海運是臺灣主要的國際貨運運輸方式。 2.海運串連起臺灣本島和澎湖、蘭嶼、綠島等島嶼。 3.扮演重要的航運集散功能。
大小漁港	1.臺灣四面環海，因此在海岸有許多各具特色的大小漁港。 2.人們走訪漁港的海洋風味和漁村風光。
藍色公路	1.利用船舶載客航行。 2.成為水上觀光的一種形式。

三、空運

項目	說明
國內航線	1.區域間的空中走廊。 2.臺灣本島與金門、馬祖、澎湖等島嶼的空中走廊。
國際航線	1.遠至全球各地，讓人們在國際間旅行。 2.兩岸直航後，提供快速便捷給往返臺灣與中國大陸工作或是旅行觀光的人們。



一、是非題

- () 1. 陸運、水運和空運等交通方式，讓臺灣的交通運輸網相當綿密。
- () 2. 臺灣的陸路交通並不發達，主要都倚靠空運來運輸旅客。
- () 3. 貫穿臺灣南北區域的公路動脈主要是國道1號和國道3號。
- () 4. 臺灣的陸路交通只有高速公路。
- () 5. 快速公路和海岸公路等，發揮了輔助不同區域的運輸功能。
- () 6. 若想搭乘陸上大眾交通運輸工具做環島旅行，鐵路是很好的選擇。
- () 7. 承上題，因為鐵路連結了都會和市鎮、東部和西部，很多鄉鎮都有設站。
- () 8. 臺灣高速鐵路實現了臺灣東部走廊「一日生活圈」的理想。
- () 9. 目前只有臺中和高雄有捷運。
- () 10. 若想從嘉義到高雄，搭捷運也是選擇之一。
- () 11. 目前只有臺灣桃園機場、臺北航空站、臺南航空站、花蓮航空站和高雄航空站是國際航空站，其餘都是國內航空站。
- () 12. 臺灣除了本島建有機場外，一些離島也設有機場。
- () 13. 水運是臺灣主要的國際貨運運輸方式。
- () 14. 臺灣與中國開放大陸飛機直航後，對需要往返兩地的人們來說，都更為快速便利。
- () 15. 臺灣本島和離島間只能依靠空運相連。
- () 16. 藍色公路目前以水上觀光遊覽為主。
- () 17. 因為有國際航線，讓人們得以翱翔天際，到達世界各地。

二、題組

臺灣的交通網絡非常發達，尤其陸運更是交錯縱橫，組成了綿密的運輸網絡。請問：

- (1) 1 貫穿臺灣南北區域的公路動脈是哪一條？ (1)國道1號與國道3號 (2)藍色公路(3)橫貫公路 (4)雪山隧道。
- (3) 2 臺灣的都會區每天都有大批通勤的學生和上班族，因此政府在臺北和高雄興建了什麼建設來紓解龐大的人潮和車潮呢？ (1)高速公路 (2)環島鐵路 (3)大眾捷運系統 (4)高速鐵路。
- (3) 3 從臺北到高雄不用2小時就可以抵達，讓臺灣西部走廊實現了「一日生活圈」的理想，是因為什麼建設興建完成呢？ (1)臺北國際航空站 (2)高雄國際航空站 (3)臺灣高速鐵路 (4)國道1號與國道3號。
- (1) 4 下面哪一項不屬於公路系統？ (1)藍色公路 (2)國道1號 (3)縱貫公路 (4)快速公路。